

## BÖLÜM DEĞERLENDİRMESİ

1. İş kanununa göre işin yapıldığı yere ne ad verilir?  
A) İş yeri      B) Lokal      C) Tesis      D) Dernek
2. İşyeri; işyerine bağlı yerler, eklentiler ve araçlar ile oluşturulan iş organizasyonu kapsamında bir bütündür. Buna göre aşağıdakilerden hangisi işyerlerinden sayılır?  
A) İşe yürüyerek gidip geldiği yollar  
B) İşyerine gidip gelirken kullanılan şahsi araçlar  
C) İşyeri tarafından tahsis edilen servis araçları  
D) İşyerine gidip gelirken kullandığı toplu taşıma araçları
3. İş kanununa göre, bir hizmet akdine dayanarak herhangi bir işte ücret karşılığında işçi çalıştıran gerçek veya tüzel kişilere ne ad verilir?  
A) İşveren      B) İSG uzmanı  
C) Ustabaşı      D) İşyeri hekimi
4. Kullandığı iş makinesinin özelliğine uygun olarak emniyetli ve verimli bir şekilde iş makinesini sevk ve idare eden kişiye ne ad verilir?  
A) Operatör      B) Sapanıcı  
C) İşaretçi      D) Yağcı
5. Aşağıdakilerden hangisi, Çalışma ve Sosyal Güvenlik Bakanlığınca iş yerlerinde yetkilendirilmiş kişiler arasında yer alır?  
A) Aile hekimi      B) İşyeri hekimi  
C) Pratisyen hekim      D) Diş hekimi
6. Aşağıdakilerden hangisi, Çalışma ve Sosyal Güvenlik Bakanlığı'nca iş yerlerinde iş güvenliği ve sağlığı konusunda yetkilendirilmiş kişiler arasında yer alır?  
A) Teknisyen      B) İş güvenliği uzmanı  
C) Usta başı      D) Mühendis



7. İş sağlığı ve güvenliği ile ilgili çalışanları temsil etmeye yetkili kişiye ne ad verilir?  
A) Teknik Uzman B) Çalışan temsilcisi  
C) Usta Başı D) Mühendis
8. Yol, inşaat makineleri ile benzeri tarım, sanayi, bayındırlık, millî savunma ile çeşitli kuruluşların iş ve hizmetlerinde kullanılan, iş amacına göre üzerine çeşitli ekipmanlar monte edilmiş, karayolunda insan, hayvan ve yük taşımada kullanılmayan motorlu araçlara ne denir?  
A) İş Makinesi B) Taşıt  
C) Kamyon D) Dozer
9. Çalışanların iş dışında; Dinlenme ve barınma yerleri gibi ihtiyaçlarının giderilmesi için uygun şekilde düzenlenmiş tesislere ne denir?  
A) Barınak B) Baraka  
C) Şeflik D) Sosyal Tesis.
10. Belirli sayıda çalışanların bulunduğu bir işyerinde, Aşağıdakilerden hangisi bulunması zorunludur?  
A) Hastane B) Okul  
C) Kreş D) Revir
11. Yapılan İşlerin Teknik yönden projeye uygun ve standartlarda yapılmasından sorumlu kişi, aşağıdakilerden hangisidir?  
A) Şantiye şefi, B) Formen  
C) İsg Uzmanı D) İşyeri Hekimi.
12. İşlerin teknik yönden yönetilmesine yardımcı olan, Yönetimle çalışanların arasında iletişimi sağlayan kişi kimdir?  
A) Şantiye şefi,  
B) Formen  
C) İsg Uzmanı  
D) İşyeri Hekimi.



13. Asıl işveren işyerinde yardımcı işlerini görmek üzere işleri yapan ve yöneten kimselere ne denir?

- A) Yardımcı personel      B) Alt işveren (Taşeron)  
C) İş Ortağı      D) İşçi

14. İşçinin kendi iş yeri bünyesinde çalışmaya devam ederken ihtiyaç halinde, fiilen farklı bir iş yerinde çalışması durumuna ne denir?

- A) Taşeron      B) Asıl işyeri  
C) Geçici işyeri      D) İşyeri değişikliği

15. İşyerinde veya işin yürütümü nedeniyle meydana gelen, ölüm sebebiyet veren veya vücut bütünlüğünü ruhen ya da bedenen engelli hâle getiren olaya ne denir?

- A) İş kazası      B) Melek hastalığı  
C) Risk      D) Olay

16. Çalışanlarda, Mesleki risklere maruziyet sonucu ortaya çıkan ve sadece mesleği ile ilgili rahatsızlık belirtileri gösteren duruma ne denir?

- A) İş Kazası      B) Meslek hastalığı  
C) Bronsit      D) Meslek riski

- CEVAPLAR -

- |      |      |       |       |
|------|------|-------|-------|
| 1. A | 5. B | 9. D  | 13. B |
| 2. C | 6. B | 10. D | 14. C |
| 3. A | 7. B | 11. A | 15. A |
| 4. A | 8. A | 12. B | 16. B |



## İŞ ORGANİZASYONU SORULARI

- 1) İş makinesi ile çalışmaya başlamadan önce aşağıdakilerden hangisine dikkat edilir?
  - A) Üzerinde çalışılacak zeminin, makinenin yüklü ağırlığını taşıyıp taşıyamayacağına
  - B) İş makinesi çalışma sahasına, işi olmayan kişilerin alınmamasına
  - C) İş makinesi uyarı sistemlerinin çalışır durumda olmasına
  - D) Hepsisi
- 2) İş makinesinde aşağıdaki düzeneklerden hangilerinin bulunması zorunlu değildir?
  - A) Tepe lambası
  - B) Geri hareket esnasında sesli uyarı sistemi
  - C) Yangın söndürücü
  - D) Havalı korna
- 3) Aşağıdakilerden hangisi iş sonrası kontrolü ve bakımı içinde yer almaz?
  - A) Makine uygun alana park edilir
  - B) Varsa fren hava tankları boşaltılır
  - C) Vites boşa alınıp motor stop edilir
  - D) Toz ve pislikler temizlenir
- 4) İş makineleri için aşağıdakilerden hangisi doğrudur?
  - A) İş makinesinin kapasitesi üzerinde yazılı olmalıdır
  - B) İş makineleri insan taşımak amacıyla kullanılır
  - C) Operatör yardımcısı bütün gece makineyi çalıştırır
  - D) İş makineleri iş bitiminde olduğu yerde bırakılır
- 5) İş makinesi ile işe başlamadan önce aşağıdakilerden hangisinin yapılması yanlıştır?
  - A) Makine kullanım kılavuzuna uygun şekilde kullanılır
  - B) Çalışılacak alanda gerekli emniyet önlemleri alınır
  - C) Makinenin kontrolü yapılmadan işe başlanır
  - D) Makinenin genel kontrolleri yapılarak işe başlanır



6) Aşağıdakilerden hangisi operatörün görevleri arasında yer alır?

- A) Makinenin genel kontrolünü ve günlük bakımını yapmak
- B) Operatör saha içindeki uyarı levhalarının yerlerini belirler
- C) Operatör sadece makinenin bakımından sorumludur
- D) Operatör iş organizasyonu yapar

7) Kara yolunda çalışacak iş makineleri için aşağıdaki önlemlerden hangisinin alınması zorunlu değildir?

- A) Trafik polisinin görevlendirilmesi
- B) İlgili kuruluşlardan gerekli izinlerin alınması
- C) Uyarı ve ikaz levhalarının konulması
- D) Yeterli aydınlatmanın yapılması

8) Yandaki resimde gösterilen pano ne anlamına gelmektedir?

- A) Eğitim merkezi
- B) Acil durumda toplanma merkezi
- C) Satın alma merkezi
- D) Kontrol merkezi



9) Operatörlere verilen kişisel koruyucu donanımlar ile ilgili aşağıdaki ifadelerden hangisi yanlıştır?

- A) Kullanılır durumda olmalı
- B) Temiz ve bakımlı olmalı
- C) Gerektiğinde yenileri ile değiştirilmeli
- D) Kişisel koruyucu donanımlar bir defaya mahsus verilmeli

10) Çalışma alanının emniyetinin sağlanması için aşağıdakilerden hangisi doğru bir uygulamadır?

- A) Operatörün çalışma yerini tanıması, şartlarını öğrenmesi
- B) Risklere karşı gerekli tedbirler alınması için ön çalışma yapılması
- C) İşaretçilerin verdiği işaretlerin anlamlarının bilinmesi
- D) Hepsisi



11) Aşağıdakilerden hangisi iş makinesi ile çalışırken dikkat edilmesi gereken hususlardan biri değildir?

- A) Çalışma sahasındaki insanlar
- B) Çalışma sahasındaki diğer iş makineleri
- C) İş makinesinin marka ve modeli
- D) Çalışma sahasının emniyetli ve güvenli olması

12) İş makinesi ile geri manevra sırasında aşağıdaki uyarılardan hangisi yapılmalıdır?

- A) Sadece sinyaller yakılarak geri manevrası yapılır
- B) Sadece park lambaları yakılarak geri manevrası yapılır
- C) Sadece farlar yakılarak geri manevrası yapılır
- D) Geri manevra hareketi sırasında korna çalınır, sinyaller yakılır gerekirse operatör yardımcısı kullanılır

13) İş makinesi ile çalışmaya başlamadan önce aşağıdakilerden hangisi yapılmamalıdır?

- A) Çalışma alanına, ataşman yukarı kaldırılarak girilmeli
- B) Koltuk ve ayna ayarları yapılarak işe başlanmalı
- C) Çalışma alanına girip çıkmak için uygun yollar bulunmalı
- D) Çalışma alanında tehlikeli kısımlar sınırlandırılmalı

14) Aşağıdakilerden hangisi iş makinelerinde dikkat edilecek hususlardan biri değildir?

- A) Makine bakımı düz bir yerde yapılmalı
- B) Makinenin bakımı yapılırken zemin ıslak olmalı
- C) Makinenin bakımı yapılırken tekerlekler bloke edilmeli
- D) Makinenin bakımı yapılırken ataşman uygun konumda sabitlenmeli

15) Aynı iş yerinde çalışan iş makinelerinin korna sesi nasıl olmalıdır?

- A) Havalı korna olmalı
- B) Hidrolik korna olmalı
- C) İş yerindeki diğer sinyal seslerinden farklı olmalı
- D) Korna sesleri hepsinde aynı olmalı



16) Aşağıdakilerden hangisi İş Kanunu'na göre operatörün görev ve sorumluluğu değildir?

- A) İş organizasyonu yapma
- B) Makineyi kendisinin ve diğerlerinin sağlığını koruyacak biçimde doğru kullanma
- C) Çalışma esnasında gördüğü tehlike ve riskleri ilgililere bildirme
- D) İş birliği ve işe katılım

17) İş makinesi operatörünü doğru ve planlı şekilde yönlendirmek kimin görevidir?

- A) İşaretçi
- B) Operatör
- C) İş güvenliği uzmanı
- D) Saha bekçisi

18) Aşağıdakilerden hangisi özel tedbir alınmayı gerektiren çalışma sahalarındandır?

- A) Görüşün iyi olduğu yerler
- B) Boyalı yerler
- C) Yeraltı enerji ve doğalgaz hatlarının olduğu yerler
- D) Tarım alanlarının olduğu yerler

19) İş makinelerinin periyodik kontrolleri (muayeneleri) kim tarafından yapılır?

- A) Operatör tarafından
- B) Firma sahibi tarafından
- C) Tamirci tarafından
- D) Yetkilendirilmiş makine mühendisi tarafından

20) Aşağıdakilerden hangisi iş makinesi operatörlerinin görev ve sorumluluğu değildir?

- A) İşçi sağlığı ve iş güvenliğine ilişkin önlemler almak
- B) Mekanik arızalarının tamiratını yapmak
- C) İş talimatını incelemek
- D) Çalışma yapılacak alanın zemin kontrolünü yapmak

21) Aşağıdakilerden hangisinin yapılması iş makinelerinde kaza riskini artırır?

- A) Makine emniyet sistemlerinin devre dışı bırakılması
- B) İş yeri ortamında gerekli önlemlerin alınmış olması
- C) Makine emniyet sistemlerinin aktif ve çalışır durumda olması
- D) Makinenin bakımının yapılmış olması



- 22) İş makinesi operatörü, görüş alanının daraldığı durumlarda nasıl davranmalıdır?
- A) Operatör makineden sarkarak görüş alanını genişletmelidir  
B) Sürekli korna çalarak hareket etmelidir  
C) Rastgele hareket etmelidir  
D) Operatör yardımcısı kullanılmalıdır
- 23) İş makinesi park edilirken aşağıdakilerin hangisine dikkat edilmelidir?
- A) İş makinesinin başında durulmalı  
B) İş makinesi yükte bırakılmamalı  
C) İş makinesini her yere bırakılabilmeli  
D) İş makinesi fabrikadan uzak noktalara bırakılmalı
- 24) Operatör iş makinesini kullanırken aşağıdakilerin hangisine dikkat etmelidir?
- A) İş makinesinin lastik basınçlarına  
B) İş makinesi ataşmanlarına  
C) İş makinesi kapasitesine  
D) Hepsi
- 25) İş makinesi operatörü çalıştığı alanda aşağıdakilerden hangisine dikkat etmelidir?
- A) Alt yapı hatlarının yerlerini iyi bilmeli  
B) Yalnız yüksek gerilim hatlarını dikkate almalı  
C) Yalnız doğal gaz borusunu dikkate almalı  
D) Yalnız su hattını dikkate almalı
- 26) İş makinesi ile iş yaparken iş kazasının meydana gelmemesi için aşağıdaki tedbirlerden hangisi alınmalıdır?
- A) Çalışma alanı trafiğe açık tutulmalıdır  
B) Çalışma alanının etrafına uyarı işaretleri konulmalıdır  
C) Makineler birbirlerine çok yakın olmalıdır  
D) Operatör istediği gibi çalışmalıdır
- 27) İş makinesi operatörü için aşağıdakilerden hangisi doğrudur?
- A) İş makinesi operatörü makinesinden sorumludur  
B) İş makinesi operatörü kullandığı makinanın çalıştırma talimatlarını önceden okumuştur  
C) İş makinesi operatörü kullandığı makinanın kapasitesini ve yeteneklerini bilir  
D) Hepsi





- 28) Yangında karşılaşıldığında aşağıdakilerden hangisinin yapılması yanlıştır?
- A) Hemen yangın yerinden kaçınız  
B) İtfaiyeye telefon ediniz  
C) Yangını çevrenizdekilere duyurunuz  
D) Telaşlanmayınız
- 29) Çalışma sahasında, kasıt söz konusu olmaksızın meydana gelen, beklenmedik ve sonucu istenmeyen olaya ne denir?
- A) İş organizasyonu  
B) İş kazası  
C) Tesadüf  
D) Rastlantı
- 30) Aşağıdakilerden hangisi kara yolunda çalışacak iş makinesi için alınması gereken önlemlerden biri değildir?
- A) İlgili kuruluşlardan gerekli izinlerin alınması  
B) Uyarı ve ikaz levhaları konulması  
C) Çalışma alanının etrafının dikenli tellerle çevrilmesi  
D) Yeterli aydınlatmanın yapılması
- 31) Aşağıdakilerden hangisi iş makinesi operatörünün sorumlulukları arasındadır?
- A) İş programı yapmak  
B) İş Sağlığı ve Güvenliği önlemlerini almak  
C) Çalışma Alanı Güvenliğini sağlamak  
D) İşe başlamadan önce makinenin kontrollerini yapmak
- 32) Bir operatör iş öncesi hazırlıklarında aşağıdakilerden hangisine dikkat etmelidir?
- A) İş yapılacak sahada çevresel riskleri gözlemleyerek gerekli tedbirleri almaya  
B) Makinede bulundurulması zorunlu teçhizatların eksiksiz ve tam olmasına  
C) İşe başlamadan makinenin günlük kontrollerini yapmaya  
D) Hepsi



33) Aşağıdakilerden hangisi planlamanın yararlarından değildir?

- A) Maliyeti düşürür
- B) Riski artırır
- C) Zamandan tasarruf sağlar
- D) Aksaklıkları önler

34) Aşağıdakilerden hangisi iş organizasyonu ile ilgili değildir?

- A) Sağlık yönetmelikleri doğrultusunda kontrolleri yaparak yetkililere bilgi vermek
- B) Çalışma ortamında tehlikelere karşı önlemlerin alınmasını sağlamak
- C) Çalışılacak alanlar, diğer kurum ve kuruluşlara ait ise, yetkili birimlerden izin almak
- D) Kazaya sebebiyet verecek çalışma alanlarının ve yollarının işaretlendirilmesini sağlamak

35) Aşağıdakilerden hangisi İş Organizasyonu ile ilgili hallerden sayılmaz?

- A) Çalışma zemininin kontrol ve düzenlemelerini yaptırmak
- B) Arızalı makine ve ekipmanının kullanmak
- C) Koruyucu ekipmanın kullanılmasını sağlamak
- D) Arızaları makine ve ekipmanının tamir ve onarımının yapılmasını sağlamak

- CEVAPLAR -

1. D	5. C	9. D	13. A	17. A	21. A	25. A	29. B	33. B
2. D	6. A	10. D	14. B	18. C	22. D	26. B	30. C	34. A
3. B	7. A	11. C	15. C	19. D	23. B	27. D	31. D	35. B
4. A	8. B	12. D	16. A	20. B	24. D	28. A	32. D	



## İŞ ÖNCESİ HAZIRLIK SORULARI

1. İş öncesi hazırlık esnasında aşağıdakilerden hangisinin yapılması yanlıştır?
  - A) İş talimatlarına uygun davranılması
  - B) Makinenin ataşmanlarının kontrolü
  - C) Makinenin hidrolik sistemlerindeki kaçakların kontrolü
  - D) Makinede tespit edilen arızaları tamir eder
2. Lastik tekerlekli iş makinesi ile kara yoluna çıkılacak ise hangi şartlara uyulmalıdır?
  - A) Tescil belgesi ve plakası olmasına
  - B) Trafik sigortasının olmasına
  - C) Operatörün "G sınıfı" sürücü belgesi sahibi olmasına
  - D) Hepsisi
3. İş makineleri için aşağıdakilerden hangisi doğrudur?
  - A) Yük kapasiteleri üzerinde yazılı olmalıdır
  - B) Lastik hava basınçları 15 bar'dan yüksek olmalıdır
  - C) Operatör yardımcısı makinenin arızalarını tamir etmelidir
  - D) Her gün motor yağı değiştirilmelidir
4. İş makinesi operatörü, ilk hareketten önce aşağıdakilerden hangisini yapmalıdır?
  - A) Makinenin günlük kontrollerini yapmalı
  - B) İş makinesinin çalışacağı alanının çevresini kontrol etmeli
  - C) İş güvenliği talimatlarına uymalı
  - D) Hepsisi
5. İş bitiminde operatör makineyi nasıl stop etmelidir?
  - A) Yakıt ikmalini yapar
  - B) Suyuna ve yağına bakar
  - C) Yıkayıp park eder
  - D) Hepsisi



6. İş makinelerinde kullanılan ataşmanlar ne işe yarar?
- A) Fren sisteminin bir parçasıdır
  - B) Çelik burgulu halatlara verilen isimdir
  - C) Halat tamburunun bağlandığı bloğa verilen isimdir
  - D) Yapılacak işe uygun makine eklentileridir
7. İş makinelerindeki kumanda kollarının amacı aşağıdakilerin hangisinde uygun şekilde ifade edilmiştir?
- A) Makinenin içinde bulunan yağı soğutmak
  - B) Makinenin içinde bulunan yağı süzmek
  - C) Kumanda ettiğimiz kol yönüne makinenin hareketini sağlamak
  - D) Makine lastiklerinin havasını ideal basınca ayarlamak
8. İş makinesi operatörü, iş öncesi hazırlık esnasında aşağıdaki kontrollerden hangilerini yapmalıdır?
- A) Ataşmanlarda gözle görülebilecek gevşeme, çatlama, kırılma gibi kontrolleri
  - B) Sıvı sızıntılarının kontrollerini
  - C) Lastiklerin kontrollerini
  - D) Hepsi
9. İş makinesi ile çalışırken tehlikeli durumlar ile karşılaşıldığında ilk önce yapılması gereken aşağıdakilerden hangisidir?
- A) Acil stop butonuna basılır
  - B) İşe devam edilir
  - C) İşverene haber verilir
  - D) Makineyi kapatmadan uzaklaşılır
10. İş makinesi ile çalışırken aşağıdakilerden hangisine dikkat edilir?
- A) Çevredeki çalışanlara ve makine hızına
  - B) Yapılacak işe uygun ataşman seçmeye
  - C) Makine ataşmanlarının kırık ve çatlaklarının kontrolüne
  - D) Gerektiğinde insan taşımak için yedek sandalye bulundurulmasına



11. İş öncesi hazırlık yapan operatörün görevi aşağıdakilerden hangisi değildir?
- A) İş sağlığı ve iş güvenliği ile ilgili önlemleri almak
  - B) Çalışma alanını incelemek
  - C) İşin uzak ve yakınlığına bakmak
  - D) Amirlerinden iş ile ilgili bilgi almak
12. İş makinelerinde bakım yapıldıktan sonra çıkan atıklar ne yapılmalıdır?
- A) Görünmeyen bir yere dökülür
  - B) Kuyu açılarak toprak altına gömülür
  - C) Atık toplama kabına alınır
  - D) Atıklar yakılarak imha edilir
13. İş makinesi özel yük taşıma izin belgesi üzerinde aşağıdakilerden hangisi yazılı olmalıdır?
- A) Araç ve yüke ait bilgiler
  - B) Toplam dingil adedi
  - C) Aracın yüklü durumdaki ölçüleri
  - D) Hepsi
14. İş öncesi hazırlık yapan operatör aşağıdakilerden hangisini yapmalıdır?
- A) İş için uygun ataşman takmalı
  - B) Çalışılacak sahanın ön kontrollerini yapmalı
  - C) Kişisel koruyucu donanımları giymeli
  - D) Hepsi
15. İş makinelerinde uzun süreli çalışmalarda aşağıdakilerden hangisi önemlidir?
- A) Kabin kliması her zaman çalışır durumda olmalı
  - B) Kabin camları görüşü engellemeyecek şekilde temiz olmalı
  - C) Yangın söndürücü, iş makinesinden uzak bir yerde tutulmalı
  - D) Yapacağı her hareketten önce korna çalmalı



16. Aşağıdakilerden hangisi iş makinesi operatörünün sorumlulukları arasında yer almaz?

- A) Çalışma sahasındaki zemini kontrol etmek
- B) Arızalı durumdaki iş makinesini kullanarak işe devam etmek
- C) Koruyucu ekipmanları doğru şekilde kullanmak
- D) Arızaları makine ve ekipmanları saha yetkilisine bildirmek

17. İş makinesi operatörüne planlama görevi aşağıdakilerden hangisi tarafından verilir?

- A) Teknik personel
- B) İş arkadaşı
- C) Akrabası
- D) Patronu

18. Amirleri tarafından görevlendirilen iş makinesi operatörü nasıl davranmalıdır?

- A) Yapılacak işe uygun planlama yapmalıdır
- B) Makineyi çalıştırarak hemen işe başlamalıdır
- C) Verilen görev zor ise işi yapmamalıdır
- D) Verilen işi yardımcı operatörün yapmasını istemelidir

19. Yapılacak işe uygun ataşman secimi kim tarafından belirlenir?

- A) İşveren
- B) Operatör
- C) İşaretçi
- D) Muhasebeci

- CEVAPLAR -

1. D	5. D	9. A	13. D	17. A
2. D	6. D	10. D	14. D	18. A
3. A	7. C	11. C	15. B	19. B
4. D	8. D	12. C	16. B	



## İSG KAVRAMLAR

- 1- İş kanununa göre işin yapıldığı yere ne ad verilir?  
A) İş yeri B) Lokal C) Tesis D) Dernek
- 2- İşyeri; işyerine bağlı yerler, eklentiler ve araçlar ile oluşturulan iş organizasyonu kapsamında bir bütündür. Buna göre aşağıdakilerden hangisi işyerlerinden sayılır?  
A) İşe yürüyerek gidip geldiği yollar  
B) İşyerine gidip gelirken kullanılan şahsi araçlar  
C) İşyeri tarafından tahsis edilen servis araçları  
D) İşyerine gidip gelirken kullandığı toplu taşıma araçları
- 3- İş kanununa göre, bir hizmet akdine dayanarak herhangi bir işte ücret karşılığı işçi çalıştıran gerçek veya tüzel kişilere ne ad verilir?  
A) İşveren B) İSG uzmanı  
C) Ustabaşı D) İşyeri hekimi
- 4- Kullandığı iş makinesinin özelliğine uygun olarak emniyetli ve verimli bir şekilde iş makinesini sevk ve idare eden kişiye ne ad verilir?  
A) Operatör B) Sapanıcı  
C) İşaretçi D) Yağcı
- 5- Aşağıdakilerden hangisi, iş makinesi operatörünün görev ve sorumlulukları arasındadır?  
A) İş programı yapmak  
B) İş organizasyonu yaparak talimatlar vermek  
C) Çalışma alanını tel örgü ile çevirmek  
D) İşveren tarafından verilen talimatları uygulamak
- 6- Kaza olduktan sonra konuyu ele alan, kaza olasılıklarını ortadan kaldırmaya yönelik çalışmalar yapan teknik bilim dalına ne ad verilir?  
A) İş sağlığı ve güvenliği B) İş ekonomisi  
C) İş komitesi D) Teftiş kurulu



- 7- Aşağıdakilerden hangisi, işyerinde var olan ya da dışarıdan gelebilecek, çalışanı veya işyerini etkileyebilecek zarar veya hasar verme potansiyelini ifade eder?
- A) Tehlike  
B) Olay  
C) Yaralanma  
D) Meslek Hastalığı
- 8- Aşağıdakilerden hangisi İş Sağlığı ve Güvenliği Kanunu'nda verilen tehlike tanımına uymaktadır?
- A) Çalışma ortamındaki performansın düşme potansiyelidir  
B) İş yerinde var olan ya da dışarıdan gelebilecek, çalışanı veya iş yerini etkileyebilecek zarar veya hasar verme potansiyelidir  
C) Yapılan bir etkinliğin motivasyonu düşürme potansiyelidir  
D) Ekonomik olarak zarara uğrama ihtimalidir
- 9- Aşağıdakilerden hangisi tehlikeden kaynaklanacak kayıp, yaralanma ya da başka zararlı sonuçların meydana gelme olasılığını ifade eder?
- A) Kaza  
B) Risk  
C) Yaralanma  
D) Meslek Hastalığı
- 10- Aşağıdakilerden hangisi 6331 sayılı İş Sağlığı ve Güvenliği Kanunu'nda verilen risk tanımına uymaktadır?
- A) Yapılan bir etkinliğin motivasyonu düşürme ihtimalidir  
B) Kazanç elde etme çalışmasıdır  
C) Kendini koruma güdüsüdür  
D) Tehlike durumundaki zararın gerçekleşme ihtimalidir
- 11- Bir veya birden fazla sağlık ve güvenlik riskine karşı korunmak için kişilerce giyilmek, takılmak veya taşınmak amacıyla tasarlanmış cihaz, alet veya malzemelere ne ad verilir?
- A) Tepe lambası  
B) Limit şalteri  
C) Kişisel koruyucu konanım (KKD)  
D) Takım çantası
- 12- Aşağıdakilerden hangisi, Çalışma ve Sosyal Güvenlik Bakanlığı'nca iş yerlerinde yetkilendirilmiş kişiler arasında yer alır?
- A) Aile hekimi  
B) İşyeri hekimi  
C) Pratisyen hekim  
D) Diş hekimi





13- Aşağıdakilerden hangisi, Çalışma ve Sosyal Güvenlik Bakanlığı'nca iş yerlerinde iş güvenliği ve sağlığı konusunda yetkilendirilmiş kişiler arasında yer alır?

- A) Teknisyen B) İş güvenliği uzmanı  
C) Usta başı D) Mühendis

14- İş yeri ortamında çalışanlara, neyin ne ölçüde ne seviyede hasar verebileceğine yönelik yapılan detaylı çalışmalara ne ad verilir?

- A) Risk değerlendirmesi B) Performans artırma  
C) Makine bakım detayı D) İş talimatı

15- Aşağıdakilerden hangisi, sigortalının çalıştığı veya yaptığı işin niteliğinden dolayı tekrarlanan sürekli hastalık, bedensel veya ruhsal özürülük halidir?

- A) İş kazası B) Meslek hastalığı  
C) Trafik kazası D) Risk raporu

16- İş yerinde, çalışan ya da ekipmanın zarara uğrama potansiyeli olduğu halde zarara uğramadan ucuz atılması olayına ne ad verilir?

- A) Trafik kazası B) İş kazası  
C) Yaralanma D) Ramak Kala

17- İş yerlerinde meydana gelebilecek acil durumlarda uygulamaya yönelik yapılan eylem planına ne ad verilir?

- A) Üretim planı B) Acil durum eylem planı  
C) Kalkınma planı D) Günlük plan

18- İş sağlığı ve güvenliği ile ilgili çalışanları temsil etmeye yetkili kişiye ne ad verilir?

- A) Teknik Uzman B) Çalışan temsilcisi  
C) Usta Baş D) Mühendis

- CEVAPLAR -

1. A	4. A	7. A	10. D	13. B	16. D
2. C	5. D	8. B	11. C	14. A	17. B
3. A	6. A	9. B	12. B	15. B	18. B



## AMAÇ ÖNEM SORULARI

1. Aşağıdakilerden hangisi iş sağlığı ve güvenliği amaçları arasında yer almaz?
  - A) Çalışanları korumak
  - B) Üretim güvenliğini sağlamak
  - C) İşletme güvenliğini sağlamak
  - D) İşletme kârını artırmak
2. Aşağıdakilerden hangisi iş güvenliği amaçları arasında yer almaz?
  - A) Çalışanlara sağlıklı bir ortam sunmak
  - B) İş yerlerindeki riskleri tamamen ortadan kaldırmak ya da zararları en aza indirmek
  - C) Oluşabilecek maddi ve manevi zararları ortadan kaldırmak
  - D) Satın alma planlamasını yapmak
3. Aşağıdakilerden hangisi iş sağlığı ve güvenliğini amaçları arasındadır?
  - A) İş yerlerindeki riskleri tamamen ortadan kaldırmak ya da zararları en aza indirmek
  - B) Çalışanların sağlığını, fiziksel ve ruhsal açıdan korumak
  - C) Çalışanları, çalışma koşullarının olumsuz etkilerinden korumak
  - D) Hepsi
4. Aşağıdakilerden hangisi iş sağlığı ve güvenliğinin amaçlarından biri değildir?
  - A) Çalışanları korumak
  - B) Çalışanların maaşlarını ayarlamak
  - C) Üretim güvenliğini sağlamak
  - D) İşletme güvenliğini sağlamak
5. Aşağıdakilerden hangisi iş sağlığı ve güvenliğinin temel prensiplerinden değildir?
  - A) Çalışanların sağlığının korunması
  - B) Mesleki risklerin araştırılması
  - C) Makine verimliliğinin artırılması
  - D) Tehlikeli hareket ve durumların önlenmesi



6. Çalışma hayatındaki güvenlik kültürünün oluşmasına aşağıdakilerden hangisi katkı sağlar?
- A) İşverenler  
B) İş sağlığı ve güvenliği kurulları  
C) Çalışanlar  
D) Hepsi
7. Tehlike sınıfları aşağıdakilerin hangisinde yanlış tanımlanmıştır?
- A) Tehlikesiz işler  
B) Az tehlikeli işler  
C) Tehlikeli işler  
D) Çok tehlikeli işler
8. Aşağıdakilerden hangisi iş sağlığı ve güvenliği konusunun önemini ortaya koymaktadır?
- A) Yaşanan yaralanma, ölüm, işgücü kaybı, ekonomik kayıplar ve manevi zararlar doğuran iş kazaları  
B) Ekonomik buhranlar  
C) Dövizdeki dalgalanmalar  
D) İşsizlik rakamlarının yüksek olması

- CEVAPLAR -

- |      |      |      |      |
|------|------|------|------|
| 1. D | 3. D | 5. C | 7. A |
| 2. D | 4. B | 6. D | 8. A |



## İSG RİSK FAKTÖRLERİ SORULARI

1. Aşağıdakilerden hangisi fiziksel risk faktörlerinden değildir?  
A) Yaş  
B) Beslenme  
C) Aydınlatma  
D) Cinsiyet
2. Titreşim, toz ve gürültü, iş sağlığı ve güvenliği açısından hangi tür riskler arasındadır?  
A) Fiziksel riskler  
B) Kimyasal riskler  
C) Biyolojik riskler  
D) Ekonomik riskler
3. İş makinesi operatörünün çalıştığı ortamda yeterli aydınlatma olmazsa ne tür sağlık problemleri ortaya çıkar?  
A) İşitme rahatsızlıkları  
B) Göz rahatsızlıkları  
C) Deri rahatsızlıkları  
D) Tat alma rahatsızlıkları
4. İş makinesi operatörünün çalıştığı ortamda yeterli aydınlatma olmazsa, aşağıdaki sorunlardan hangisi meydana gelmez?  
A) Takılıp düşmelere bağlı yaralanmalar  
B) Çalışanın kendini iyi hissetmemesi, moral bozukluğu ve yorgunluk gibi biyolojik ve psikolojik rahatsızlıklar  
C) İşitme rahatsızlıkları  
D) Göz rahatsızlıkları
5. Aşağıdakilerden hangisi, çalışma ortamında yetersiz aydınlatmaya karşı alınacak önlemlerden biri değildir?  
A) İş yerinin, uygun ve dengeli şekilde aydınlatılması  
B) Çalışanlar için yeterli miktarda temizlik malzemesi bulundurulması  
C) Yapay aydınlatma gereken durumlarda doğal işığa en yakın ışık kaynağının seçilmesi  
D) Düzenli aralıklarla ölçümler yapılması
6. Aşağıdakilerden hangisi, fiziksel riskler arasında yer almaz?  
A) Havalandırma  
B) İş yoğunluğu  
C) Basınç değişimleri  
D) Sıcaklık ve nem



7. Aşağıdakilerden hangisi iş makinelerinden kaynaklanan riskler arasında yer almaz?
- A) Operatörün eğitilmiş olması
  - B) Standartlara uygun olmayan makine veya ekipmanların kullanılması
  - C) Periyodik bakım, kontrol ve ayarların zamanında yapılmaması
  - D) Makine koruyucularının bulunmaması veya standartlara uygun olmaması
8. Aşağıdakilerden hangisi iş makinelerinden kaynaklanan riskler arasında yer almaz?
- A) Elektrik tesisatının bozuk olması
  - B) Standartlara uygun, topraklaması yapılmış olması
  - C) Göstergelerin okunamaz durumda olması
  - D) Sigorta kutusunun arızalı olması
9. Aşağıdakilerden hangisi iş makinelerinden kaynaklanan riskler arasında yer almaz?
- A) Makineye çıkıp inmek için kullanılan basamak ve tutamakların kırık, yağlı veya kirli olması
  - B) Sesli ve ışıklı uyarı sistemlerinin çalışır durumda olması
  - C) Operatör koltuğunun ayarlanabilir özellikte ve rahat olmaması
  - D) Makinenin titreşimli ve gürültülü olması
10. Aşağıdakilerden hangisi iş makinesindeki titreşimin operatöre verdiği olumsuz etkiler arasındadır?
- A) Sırt ve boyun kaslarında sertlik
  - B) Motivasyonu olumsuz yönde etkileme
  - C) Devamlı baş ağrısı
  - D) Hepsi
11. Aşağıdakilerden hangisi birdenbire şiddetli gürültünün etkisinde kalan iş makinesi operatöründe meydana gelen kişisel bozukluklardan değildir?
- A) Geçici körlük
  - B) Terlemenin artması
  - C) Solunum hızı değişmesi
  - D) Dolaşım bozukluğu



12. Aşağıdakilerden hangisi kişilerin davranışlarından kaynaklanan risklerden değildir?

- A) Arızalı makine ile çalışılmaya devam etmek
- B) Makineleri kapasiteleri üzerinde çalıştırmak veya zorlamak
- C) Yetersiz veya aşırı aydınlatma
- D) Makineleri amacı dışında kullanmak

13. Operatörün çalışma öncesi iş güvenliği ile ilgili aşağıdaki sorulardan hangisini yanıtlamasına gerek yoktur?

- A) İş güvenliği programını biliyor musunuz?
- B) İş için giydiğiniz elbise uygun mu?
- C) Makinenizi tanıyor musunuz?
- D) Muhasebe programını kullanmasını biliyor musunuz?

14. Operatörün çalışma öncesi iş güvenliği ile ilgili aşağıdaki sorulardan hangisini yanıtlamasına gerek yoktur?

- A) Çalışacağınız alan hakkında bilginiz var mı?
- B) Tüm iş makinelerini kullanmayı biliyor musunuz?
- C) Acil durumlar için hazırlıklı mısınız?
- D) Güvenliğin bilincinde misiniz?

- CEVAPLAR -

- |      |      |      |      |       |       |       |
|------|------|------|------|-------|-------|-------|
| 1. C | 3. B | 5. B | 7. A | 9. B  | 11. A | 13. D |
| 2. A | 4. C | 6. B | 8. B | 10. D | 12. C | 14. B |



## İSG ÇEVRE SORULARI

1. Çevrenin doğal yapısının ve bileşiminin bozulmasına, değişmesine ve böylece insanların bundan olumsuz yönde etkilenmesine ne ad verilir?  
A) Ekolojik denge  
B) Atık  
C) Çevre kirliliği  
D) Sürdürülebilir kalkınma
2. Aşağıdakilerden hangisi çevre kirliliğine sebebiyet veren endüstriyel atıktır?  
A) Bitkisel atıklar  
B) Gıda atıkları  
C) Makine yağları  
D) Hayvansal atıklar
3. Aşağıdakilerden hangisi iş makinesi operatörünün çevreyi koruma açısından dikkat etmesi gereken hususlardandır?  
A) Atık yağların atık toplama kabında toplanması  
B) Atık akülerin geri dönüşüme verilmesi  
C) Yakıt sızıntıları kontrol edilerek dikkatli davranılması  
D) Hepsi
4. Demir, çelik, kurşun, kâğıt, plastik, cam gibi atık maddelerin çeşitli işlemlerden geçirilerek şişe, kutu, plastik, kâğıt, gübre gibi yeni bir maddeye dönüştürülmesine ne denir?  
A) Geri dönüşüm  
B) Depolama  
C) İmha etme  
D) Çöpe atma
5. Atık madeni yağların çevreye zarar vermemesi için aşağıdaki önlemlerden hangisi alınır?  
A) Toprak alanlara dökülür  
B) Atık madeni yağlar filtrelenerek zararsız hale getirilir  
C) Akar suya dökülür  
D) İçine talaş dökülerek temizlenir



6. Atık akülerin çevreye etkisi ile ilgili aşağıdakilerden hangisi doğrudur?
- A) Çevreye herhangi bir zararı yoktur  
B) Atık akülerin sadece kutup başları zararlıdır  
C) Bünyesinde kurşun plakalar ve asit bulunduğundan geri dönüşüme gönderilmelidir  
D) Atık aküler yakılarak zararı ortadan kaldırılır
7. Aşağıdakilerden hangisi çevreye olumlu yönde katkı sağlar?
- A) Kalitesiz yakıt kullanılması  
B) Araç egzozlarının delik ve hasarlı olması  
C) Makine bakımlarının düzenli olarak yaptırılması  
D) Makinelerin iş aralarında çalışır durumda bırakılması
8. Antifrizin çevreye etkisi ile ilgili aşağıdakilerden hangisinin yapılması doğru bir uygulamalıdır?
- A) Antifrizin suya dökülmesinde herhangi bir sorun yoktur  
B) Antifrizin toprağa dökülmesinde herhangi bir sorun yoktur  
C) Antifrizin kanalizasyona dökülmesinde herhangi bir sorun yoktur  
D) İçeriğindeki kimyasallar nedeniyle zararlıdır ve atıkları geri dönüşüme gönderilmelidir

- CEVAPLAR -

1. C  
2. C

3. D  
4. A

5. B  
6. C

7. C  
8. D





## MAKİNE TANIMLARI SORULARI

1. Bir traktör ve önde yüklemeyi sağlayan kepçe takılan, kepçe kısmı hidrolik sistemlerle hareket eden iş makinesine ne denir?  
A) Yükleyici Loder  
B) Greyder  
C) Sondaj  
D) Yüzey kazıma
2. Traktörün önünde yüklemeyi sağlayan kepçe, arkasında ise kazıcı ataşmanı olan, yükleme ve kazıma işlerinde kullanılan iş makinesine ne denir?  
A) Loder  
B) Greyder  
C) Ekskavatör  
D) Beko loder
3. Sert zeminde kazıma, kanal açma ve yükleme gibi işlerde kullanılan iş makinesi aşağıdakilerden hangisidir?  
A) Ekskavatör  
B) Vidanjör  
C) Köprülü tavan vinci  
D) Beton pompası
4. Bir traktör önüne monte edilmiş sıyırıcı bıçak takılan, yürüyerek sathi kazı yapmaya yarayan iş makinesi aşağıdakilerden hangisidir?  
A) Konkasör  
B) Dozer  
C) Bariyer çakma makinesi  
D) Kule vinci
5. Zemin tesviyesi ve şev düzeltine işlerinde kullanılan iş makinesi aşağıdakilerden hangisidir?  
A) Kaya kamyonu  
B) Vidanjör  
C) Greyder  
D) Asfalt kazıyıcı
6. Freze kesici uçlar sayesinde, istenilen derinlikte asfalt veya sert zemin yüzey kazıma işlemi yapabilen, kazdığı malzemeyi konveyör bantlarla yükleme yapabilen iş makinesi aşağıdakilerden hangisidir?  
A) Bariyer çakma makinesi  
B) Vidanjör  
C) Asfalt distrübütörü  
D) Yüzey Kazıma Makinesi (Treemer)



7. Haznesine yüklenen asfalt, beton ve benzeri karışımları istenilen kalınlık ve yüzey düzlüğünde serilebilen, önüne serdiği malzemeyi sıkıştırarak düzgün bir yüzey elde edilmesini sağlayan iş makinesi aşağıdakilerden hangisidir?  
A) Finişer B) Asfalt plenti  
C) Asfalt distribütörü D) Ekskavatör
8. Toprak, stabilize, kırma taş, asfalt, temel gibi yol alt yapısına ait malzemelerin sıkıştırılması amacıyla kullanılan iş makinesi aşağıdakilerden hangisidir?  
A) Finişer B) Treemer C) Silindir D) Asfalt plenti
9. Çeşitli çap ve derinliklerde, yatay veya dikey delik delme işlemlerini yapabilen, hidrolik ya da pnömatik sistemlere sahip iş makinesi aşağıdakilerden hangisidir?  
A) Konkasör B) Dozer  
C) Kule vinci D) Zemin delgi (sondaj)
10. Bariyer, çit direkleri, trafik uyarı ve bilgilendirme levhalarının çakılması amacıyla kullanılan iş makinesi aşağıdakilerden hangisidir?  
A) Bariyer çakma makinesi B) Asfalt plenti  
C) Asfalt distribütörü D) Treemer
11. Ağır tonajlı araçlar ve çeşitli yüklerin kaldırılması, yönünün değiştirilmesi amacıyla kullanılan hidrolik ya da pnömatik sistemle çalışan iş makinesi aşağıdakilerden hangisidir?  
A) Kaya kamyonu B) Kaldırma Makineleri (Lift)  
C) Greyder D) Asfalt kazıyıcı
12. Yükleri, çatallı kolları ile alıp kaldıran, muhtelif yerlere taşıyan, yükleme ve istiflemeye yarayan iş makinesi aşağıdakilerden hangisidir?  
A) Finişer B) Asfalt plenti  
C) Asfalt distribütörü D) Forklift



13. Fabrika, depo ve açık sahalarda yüklerin kaldırılması, taşınması, istiflenmesi ve yönünün değiştirilmesi amacıyla kullanılan elektrikle çalışan iş makinesi, aşağıdakilerden hangisidir?  
A) Mobil vinç B) Dorse  
C) Elektrikli Trans Palet D) Yüzey kazıma
14. Malzemeleri ya da yükleri kaldırma, yeni bir yöne dönerek veya hareket ederek aktarma, yerlerini değiştirme, yükleme ve indirme işlerinde kullanılan iş makinesi aşağıdakilerden hangisidir?  
A) Damperli kamyon B) Beko loder  
C) Greyder D) Mobil vinç
15. Liman, iskele, rhtım, ve terminal alanlarında belirlenmiş hat boyunca hareket edebilen, yükleri tahliye, yükleme, istifleme işlerinde kullanılan iş makinesi aşağıdakilerden hangisidir?  
A) Liman Vinçi B) Vinçli kamyon  
C) Mobil vinç D) Kamyon üstü vinç
16. Yüksek inşaatların yapımında malzemeleri ya da yükleri kaldırma, ileme, yeni bir yöne dönerek veya hareket ederek aktarma işlerinde kullanılan makine aşağıdakilerden hangisidir?  
A) Mobil vinç B) Forklift  
C) Zemin delgi sondaj D) Kule vinç
17. Fabrika ve depolarda kullanılan elle veya basit araçlarla taşınması mümkün olmayan malzemeleri kaldırma, başka bir tarafa dönerek veya hareket ederek aktarma, yer değiştirme, malzemeleri yükleme, boşaltma işlerinde kullanılan ray üzerinde hareket eden iş makinelerine ne denir?  
A) Forklift  
B) Ekskavatör  
C) Raylı sistem köprülü vinç  
D) Loder
18. Yüksek yerlerde bakım onarım için insan kaldırmak amacıyla kullanılan iş makinelerine ne denir?  
A) Paletli ekskavatör B) Kule vinç  
C) Forklift D) Personel yükseltici



19. Arkasına takılı dorseyi çekerek yer deđiřtirmesini sađlayan liman ve depoıama sahaları içinde kullanılan iř makine hangisidir?  
A) Terminal çekici B) Forklift  
C) Vidanjör D) Transpalet
20. Temizlik amacıyla kullanılan, çöp haznesi, vakum fanı bulunan, hidrolik ve pnömatik sistem yardımı ile silme işlerini yapan iş makinelerine ne denir?  
A) Silindir B) Süpürme ve silme makinesi  
C) Yüzey kazıcı D) Forklift
21. Tekli veya çoklu olarak, anızalı, kazalı veya diđer araçları kaldırıp yükleyebilen, bir yerden başka bir yere taşıyabilen araç ařađıdakilerden hangisidir?  
A) Kaya kamyonu  
B) Vidanjör  
C) Araç kurtarma ve çekme  
D) Yol temizleme
22. Haznesinde asfalt bitümü taşıyabilen, malzemenin sıcaklıđını ve miktarını kontrol edilebilen iş kamyonu ařađıdakilerden hangisidir?  
A) Asfalt plenti B) Finiřer  
C) Yol çizgi makinesi D) Asfalt bakım distribütörü
23. Sıcak bitüm ile deđiřik boyutlarda gruplandırılmıř malzemenin bir kazanda karřtırılarak serime hazır hale getirildiđi sabit ya da mobil sistem iş makinelerine ne ad verilir?  
A) Asfalt plenti B) Kaya kamyonu  
C) Yüzey kazıma D) Finiřer
24. Kanal yıkama ve atık emiři yapabilen, basınçlı su sistemi ile haf içerisinde bulunan atıkları parçalayarak rögar bacalarına sürüklenmesini sađlayan, römork ve řasi üzerinde sızdırmaz depolama tankı bulunan iş kamyonuna ne denir?  
A) Asfalt bakım distribütörü  
B) Su tankeri  
C) Su sondaj makinesi  
D) Vidanjör kombine kanal temizleme



25. Kum, çakıl, agrega, su ve çimento gibi malzemelerin belirli oranlarda karıştırılarak, dolumun yapıldığı ve hazır beton imalatının gerçekleştirildiği sabit ya da mobil sistem iş makinelerine ne ad verilir?
- A) Beton pompası  
B) Beton püskürtme  
C) Beton santrali  
D) Beton harcı
26. Farklı ölçülerdeki katı madenleri istenilen ölçüde kırıp ufaltmaya ve elemeye yarayan sabit ya da mobil sistem iş makinelerine ne ad verilir?
- A) Kaya patlatıcı  
B) Kaya delici  
C) Zemin delgi  
D) Kırma eleme tesisi (Konkasör)
27. Toprak, kaya ve maden taşıma işleri yapan, düz şase veya belden kırmalı şekilde imal edilmiş olan yol dışı makinelere ne ad verilir?
- A) Kaya hafriyat kamyonu  
B) Low Bed  
C) Çekici Tır  
D) Çöp kamyonu
28. Karşımı yapılmış akışkan yapı malzemelerini aktaran, yatay veya dikey pompalama yapabilen, pnömatik veya hidrolik sistemle çalışan, sabit ya da mobil sistem olarak imal edilmiş iş kamyonuna ne denir?
- A) Beton santrali  
B) Beton püskürtme makinesi  
C) Beton pompası  
D) Beton finişi
29. Karşımı yapılmış akışkan yapı malzemelerini püskürtme yapabilen, sabit ya da mobil sistem olarak imal edilmiş iş makinesine ne denir?
- A) Beton harcı  
B) Beton santrali  
C) Beton mikseri  
D) Beton püskürtme makinesi



30. Kar temizleme, tuzlama ve kar ile mücadele işlerinde kullanılacak, aparatları taşıyıcı araca monte edilmiş, fonksiyonları sürücü kabini içerisinde kontrol edilebilen iş kamyonuna ne ad verilir?
- A) Kar ile mücadele aracı  
B) Kar kazağı  
C) Kar itfaiyesi  
D) Kar kurtarma aracı
31. Kamyon şasisi veya yan römork üzerine monte edilmiş, yapı malzemelerini karıştırma, taşıma ve boşaltmaya uygun, mobil sistem iş kamyonu aşağıdakilerden hangisidir?
- A) Transmikser  
B) Beton harcı  
C) Beton santrali  
D) Vidanjör
32. Belirlenmiş hat üzerinde sürüş olanağı bulunan ve bir düzenek yardımıyla ray tekerlerini ve lastik tekerlerini ayrı ayrı kullanabilen iş kamyonuna ne ad verilir?
- A) Yol Çizgi makinesi  
B) Ray bakım aracı  
C) Beton santrali  
D) Arazöz
33. Hidro motorlar yardımı ile suyu basınçlı hale getirerek yangın söndürme veya sulama işlerinde kullanılan iş kamyonuna ne denir?
- A) Vidanjör  
B) Distribütör  
C) İtfaiye aracı ve arazöz  
D) Yol süpürme
34. Çöp konteyneri kaldırma sistemine sahip yükleme, boşaltma ve sıkıştırma işlemi yapabilen iş kamyonuna ne denir?
- A) Vidanjör aracı  
B) Katı atık sıkıştırma ve taşıma aracı  
C) Asfalt distribütörü aracı  
D) Su tankeri aracı



35. Trafik uyarı ve bilgilendirme işaret çizgilerinin çizilmesi amacıyla kullanılan iş kamyonuna ne ad verilir?

- A) Yol nakliye kamyonu
- B) Yol çizgi makinesi
- C) Yol temizleme makinesi
- D) Yol bariyer çakma makinesi

36. Ağır makine ve benzeri yüklerin modüler dingil sistemiyle taşınması ve nakledilmesini sağlayan motorsuz araçlara ne ad verilir?

- A) Kaya kamyonu
- B) Asfalt distribütörü
- C) Çekici tahrikli ağır nakliye (Low-Bed)
- D) Belden kırmalı kamyon

37. Bagajların ve kargoların güvenli, emniyetli ve hızlı bir şekilde alınması ve uçaklara yüklenmesi amacı ile çekici araçlara takılan römorklar ile çakilebilen araca ne ad verilir?

- A) Vidanjör
- B) İtfaiye
- C) Çekme araçları
- D) Belden kırmalı kamyon

38. Tarım bitkilerinin hasat ve ayrıştırma işlerinde kullanılan makinelere ne ad verilir?

- A) Tarım makineleri
- B) Kazıma makineleri
- C) Yükleme makineleri
- D) Taşıma makineleri

- CEVAPLAR -

1. A	6. D	11. B	16. D	21. C	26. D	31. A	36. C
2. D	7. A	12. D	17. C	22. D	27. A	32. B	37. C
3. A	8. C	13. C	18. D	23. A	28. C	33. C	38. A
4. B	9. D	14. D	19. A	24. D	29. D	34. B	
5. C	10. A	15. A	20. B	25. C	30. A	35. B	



## İSG MESLEKİ RİSK ve HASTALIKLAR SORULARI

1. Meslek hastalıklarının sınıflandırılmasında aşağıdakilerden hangisi yer almaz?  
A) Kimyasal kaynaklı hastalıklar  
B) Fiziksel kaynaklı hastalıklar  
C) Biyolojik kaynaklı hastalıklar  
D) Matematik kaynaklı hastalıklar
2. Aşağıdakilerden hangisi stresle mücadele yöntemlerinden biri değildir?  
A) Ümitli olmak  
B) Olayları ve durumları olumlu yönleriyle görmek  
C) Stres yaratan durumları görmezden gelmek  
D) Sorunlara akılcı ve sağlıklı çözümler üretmek
3. Aşağıdakilerden hangisi iş ortamındaki insani ilişkilere zarar verecek davranışlardan birisidir?  
A) Takım üyelerine karşı saygılı olmak  
B) Açık fikirli ve yapıcı olmak  
C) İş arkadaşlarının yardım isteklerini önemsememek  
D) Arkadaşlarının fikirlerine olumlu yönde yaklaşım sergilemek
4. Canlı ve cansız varlıkların bir arada buldukları birbirini etkiledikleri ve birbirinden etkilendikleri ortama ne denir?  
A) Ekosistem  
B) Çevre  
C) Ekolojik denge  
D) Yaşam kalitesi
5. İnsanların işitme sağlığını ve algılamasını olumsuz yönde etkileyen, çevrenin hoşnutluğunu ve sakinliğini bozan, istenmeyen seviyedeki yüksek sese ne denir?  
A) Hava kirliliği  
B) Gürültü kirliliği  
C) Su kirliliği  
D) Enerji kirliliği
6. Aşağıdakilerden hangisi gürültünün, insanlar üzerindeki olumsuz etkilerinden biri değildir?  
A) İşitme sistemine zarar vermesi  
B) Stres oluşumunda sebep olması  
C) Uykusuzluk yaratması  
D) Sağlıklı düşünme yeteneğini arttırması





7. Aşağıdakilerden hangisi meslek hastalıkları gruplarından birisi değildir?
- A) Stres nedenli meslek hastalıkları  
B) Kimyasal nedenli meslek hastalıkları  
C) Tozlarla meydana gelen meslek hastalıkları  
D) Doğuştan gelen fiziksel bozukluklar
8. Meslek hastalığına yakalanan bir işçiye geçici süre çalışmadığı günler için hangi tür ödeme yapılır?
- A) Kıdem tazminatı  
B) Sürekli iş göremezlik ödeneği  
C) İşsizlik maaşı  
D) Geçici iş görmemezlik ödeneği
9. Mesleki riskler sonucu ortaya çıkan hastalık türlerine ne ad verilir?
- A) Meslek hastalığı  
B) Hastalık bilgisi  
C) Kronik rahatsızlık  
D) İş sağlığı
10. Uyumsuz, düzensiz bir biçimde çıkan rahatsız edici yüksek sese ne denir?
- A) Yankı  
B) Fısıltı  
C) Gürültü  
D) Uğultu
11. Uzun süreli gürültüye maruz kalan iş makinesi operatöründe nasıl sorunlar ortaya çıkar?
- A) Mide ağrısı  
B) İşitme kaybı  
C) Diş kaybı  
D) Solunum yetersizliği
12. Ağır ve tehlikeli işler kapsamındaki sağlık raporunu verme yetkisi olmayan sağlık birimi aşağıdakilerden hangisidir?
- A) İşyeri hekimi  
B) İşyeri ortak sağlık birimi  
C) Hasta bakıcı  
D) İşçi sağlığı dispanserleri
13. Yüksek gerilimli elektrige çarpılan kişiye aşağıdaki işlemlerden hangisi tatbik edilmez?
- A) Kazazedenin vücudunun soğuması için üzerinden elbiseleri çıkarılır  
B) Henüz elektrikle temas halinde ise, bir yalıtkan yardımı ile kazazede elektrik temasından kurtarılır  
C) Kazazedenin kalp atışları kontrol edilir  
D) Kazazedenin kalp atışı ve nefes alışverişi yok ise kalp masajı ve sun'i teneffüs yapılır



14. Aşağıdakilerden hangisi kimyasal kaynaklı meslek hastalıklarının içinde yer almaz?  
A) Ağır Metaller B) Doğal Tozlar  
C) Gazlar D) Kimyasal çözücüler
15. Tozlu sahalarda uzun süre çalışan ve ortamdaki tozu soluyan kişilerde aşağıdaki organlardan en çok hangisi etkilenir?  
A) Mide B) Kalp C) Akciğerler D) Karaciğer
16. Aşağıdaki maddelerden hangisi elektriği iletmez?  
A) Çelik çubuk B) Plastik çubuk  
C) Tuzlu su D) Islak tahta çubuk
17. Normal şartlarda aşağıdaki maddelerden hangisi daha çabuk yanar?  
A) Normal talaş B) Islatılmış pamuk  
C) Yağlı üstübü D) Islatılmış talaş
18. Sağlığa zararlı gazların bulunduğu bir ortamda çalışacak olan operatör hangi tipte maske kullanmalıdır?  
A) Yalnızca ağız kapatan tipte bez maske  
B) Yalnızca burnu kapatan bez maske  
C) Ağız ve burnu kapatan bez maske  
D) Ağız ve burnu kapatan gaza duyarlı filtrelili maske
19. Ağır ve koşulları zorlayıcı işlerde çalışılacak işçiler hangi yaş gurubundan seçilmelidir?  
A) Çocuk işçilerden B) Genç ve sağlıklı işçilerden  
C) Yaşlı işçilerden D) Yaşlı kadın işçilerden
20. Aşağıdakilerden hangisi işitme kaybını artırıcı zararlı etkenler arasındadır?  
A) Gürültünün frekansı B) Gürültünün şiddeti  
C) Gürültüden etkilenme süresi D) Hepsini
21. Gürültünün zararlı etkilerini azaltmak amacıyla aşağıdaki önlemlerden hangisinin alınması uygun değildir?  
A) Gürültü kaynağını kapalı bir bölme içine almak  
B) Gürültülü ortamlarda çalışanlara uygun kulak tıkacı veya kulaklık vermek  
C) Gürültülü ortamlarda uygun soğutma sistemi kurmak  
D) Gürültüyü çıkaran makine ile operatör arasındaki mesafeyi arttırmak



22. Kişilerin huzurunu, ruh ve beden sağlığını bozacak seviyede istenmeyen seslere verilen ad aşağıdakilerden hangisidir?  
A) Sesli ilan B) Duyuru C) Gürültü D) Konuşma
23. Aşağıdakilerden hangisi gürültünün insan sağlığına verdiği zararlardan değildir?  
A) Konsantrasyon bozukluğu  
B) Rahatsızlık ve öfke  
C) Kalp atışlarında ve solunumda hızlanma  
D) Diş ağrısı
24. Çalışma ortamındaki gürültünün önlenmesi için aşağıdaki tedbirlerden hangisinin yapılması akılcı bir çözüm olmaz?  
A) Gürültüyü oluşturan makine satılarak daha sessiz olanı satın alınmalıdır  
B) Gürültüyü önlemek için gerekli sünger, susturucu, eksoz gibi malzemeler kullanılmalıdır  
C) Gürültü kaynağının yerini değiştirerek insanlardan uzak bir yere taşınmalıdır  
D) Kişisel koruyucu donanım (kulaklık veya kulak tıkacı) kullanılmalıdır
25. Aşağıdakilerden hangisi kulaklığın doğru kullanımı ile ilgili yapılan yanlışlar arasındadır?  
A) Kulaklık gürültülü ortama girmeden takılmalıdır  
B) Kulaklık, gürültülü ortamda kulaktan çıkartılmamalıdır  
C) Standartlara uygun kulaklık kullanılmalıdır  
D) Kulaklık gürültülü ortamdan çıkarken takılmalıdır
26. Aşağıdakilerden hangisi gürültülü çalışma ortamlarında kulaklığın doğru kullanımını ifade eder?  
A) Kulaklık gürültülü ortama girmeden takılmalıdır  
B) Kulaklık, gürültülü ortama girdikten sonra takılmalıdır  
C) Kulaklık gürültülü ortamdan çıktıktan sonra takılmalıdır  
D) Gürültülü ortamda kulaklık takılmasına gerek yoktur

### - CEVAPLAR -

1. D	5. B	9. A	13. A	17. C	21. C	25. D
2. C	6. D	10. C	14. B	18. D	22. C	26. A
3. C	7. D	11. B	15. C	19. B	23. D	
4. B	8. D	12. C	16. B	20. D	24. A	



## İSG YANGIN SORULARI

1. Aşağıdakilerden hangisi yangını oluşturan bileşenlerden değildir?  
A) Oksijen  
B) Sıcaklık  
C) Yağmur  
D) Yanıcı Madde
2. Aşağıdakilerden hangisi yangının çıkma nedenlerinden değildir?  
A) Sıyrılmış elektrik kablosu  
B) Sürtünmeden dolayı oluşan ısı  
C) Yakıt deposundaki yakıt kaçağı  
D) Soğutma suyunun kaçağı
3. Çıkan yangını söndürmek için aşağıdakilerden hangisi kullanılmalıdır?  
A) Yangın söndürme tüpü  
B) Antifriz  
C) Hidrolik yağı  
D) Motor yağı
4. Gaz yangınlarında ilk önce uygulanması gereken söndürme tekniği aşağıdakilerden hangisidir?  
A) Yanıcı gazı hemen kesme  
B) Antifriz kullanarak müdahale etme  
C) Kendiliğinden sönmesini bekleme  
D) Soğutma
5. Yangın söndürme işlemlerinde aşağıdaki ifadelerden hangisi yanlıştır?  
A) Rüzgârın hangi taraftan estiği dikkate alınmadan yangın söndürülür  
B) Sulu yangın söndürücü alevin dibine doğru tutulur  
C) Karbondioksitli yangın söndürücü alevin üstüne tutulur  
D) Yangın söndürücü öncelikle yangının başladığı noktaya tutulur



6. İşyerinde çıkan yangında aşağıdakilerden hangisinin yapılması yanlıştır?
- A) Yangının cinsi ve olay yeri doğru bir şekilde itfaiyeye haber verilmelidir  
B) Panik yapılmamalı, soğukkanlı hareket edilmelidir  
C) Yangına doğru şekilde ilk müdahale yapılmalıdır  
D) Yangın türüne bakılmaksızın su ile müdahale edilmelidir
7. Yangın söndürme tüpü kullanarak yangına müdahale sırasında yapılacak hangi işlem yanlıştır?
- A) Tüp pimi çıkarılarak tetiğe basılır  
B) Yangına önden arkaya, aşağıdan yukarıya doğru müdahale edilir  
C) Birden fazla tüp varsa arka arkaya değil aynı anda ve birlikte kullanılır  
D) Rüzgâr karşı yönden esecek şekilde yangına müdahale edilir
8. Aşağıdakilerden hangisi yangının şiddetini arttıran faktörler arasındadır?
- A) Rüzgâr B) Yağmur C) Kar D) Tipi
9. Elektrik akımının olduğu alanlarda aşağıdaki davranışlardan hangisinin yapılması yanlıştır?
- A) Elektrik akımı sigortadan kapatılır  
B) Yangın oluşması durumunda kuru kimyevi tozlu yangın söndürme cihazı ile müdahale edilir  
C) Elektrik akımının kontrolü çıplak elle ve avuç içi ile yapılır  
D) Elektrik akımına kapılan kişi kuru maddelerle (odun, kuru bez) akımdan uzaklaştırılır
10. Çizme, baret, yangına yaklaşma elbiseleri ve temiz hava solunum cihazları aşağıdakilerden hangisinin konusu arasında yer alır?
- A) Yangın esnasında kullanılan kişisel koruyucu donanımlar  
B) Yangın söndürme cihazları  
C) Yangın önleyici tedbirler  
D) Yangın söndürme maddeleri



11. Yangın çıkması durumunda güvenlik personelinin ilk müdahaleyi yapabilmesi için bilmesi gereken en önemli husus aşağıdakilerden hangisidir?

- A) İşverenin geleceği saati bilmek
- B) Yangın söndürücülerinin yerini ve kullanımını bilmek
- C) Yangın çıktığında derhal dışarıya kaçmak
- D) Yangın çıktığında kendiliğinden sönmesini beklemek

12. Aşağıdakilerden hangisi yangının çıkma nedenlerinden biri değildir?

- A) Yangın tüpü
- B) Elektrikli cihazlar
- C) Sigara, kibrit, çakmak
- D) Statik elektrik

13. Aşağıdakilerden hangisi yangını etkileyen unsurlar arasında yer almaz?

- A) Yanıcı maddenin cinsi
- B) Havanın oranı
- C) Ses seviyesi
- D) Rüzgâr

14. Aşağıdakilerden hangisi iş makinelerinde yangın çıkmasını sağlayan sebepler arasındadır?

- A) Elektrik sistemindeki kısa devre
- B) Şanzıman arızası
- C) Soğutma sistemi arızası
- D) Diferansiyel arızası

- CEVAPLAR -

1. C	3. A	5. A	7. D	9. C	11. B	13. C
2. D	4. A	6. D	8. A	10. A	12. A	14. A



## MESLEK ADABI SORULARI

- 1) Aşağıdakilerden hangisi saygısız ve tedbirsiz iş makinesi kullanmaya örnektir?
- A) Hız kurallarına uyulması  
B) Uyarı ve ikaz levhalarına uyulması  
C) Güvenlik ekipmanlarının kullanılması  
D) Diğer çalışanların tehlikeye sokulması
- 2) Çalışma alanında araç kullanımı hakkında aşağıdakilerden hangisi doğrudur?
- A) Çevre kontrol edilir, hızlıca araç kullanılır  
B) El - kol hareketleri ile araç kullanılır  
C) Emniyet kemeri takılır, çalışma anında el, kol ve ayaklar operatör kabini dışına çıkartılmaz  
D) Hepsisi
- 3) İş makinesi operatörünün çalışma sahasında makine kullanırken aşağıdakilerden hangisini yapması doğru değildir?
- A) Sahada bulunan diğer insanlara saygılı davranması  
B) Belirlenen kurallara uygun davranması  
C) Saha şeflerinin verdiği talimatlara uyması  
D) Sahada, diğer çalışanlar ile şakalaşması
- 4) Aşağıdakilerden hangisi hoşgörü sahibi olan bir operatörün özelliklerindedir?
- A) Bencil  
B) Sorumsuz  
C) Görgü seviyesi düşük  
D) Saygılı
- 5) Aşağıdakilerden hangisi hoşgörü sahibi olmayan operatörün özelliklerindedir?
- A) Öfkeli olmak  
B) Sabırlı olmak  
C) Sağlıklı iletişim kurmak  
D) Bencilikten uzak durmak



- 6) İş ve meslek adabına uygun şekilde hareket eden iş makinesi operatörlerini diğer operatörlerden ayıran özellik nelerdir?
- A) Diğer operatörlerden saygı görür ama onlara saygı göstermez  
B) Diğer operatörlerden daha önce mesai bitir ve aranan operatörler arasında yer alır  
C) Diğer operatörlerden daha az maaş alırlar  
D) Çalışma ortamındaki tüm ekip tarafından saygı görür ve onlara saygı gösterir
- 7) Aşağıdakilerden hangisi hoşgörü sahibi olan operatörün özelliklerindendir?
- A) Bencil  
B) Sorumsuz  
C) Görgü seviyesi düşük  
D) Saygılı
- 8) İş makinesi operatörünün çalışma ortamında yaptığı hangi davranış, diğer saha çalışanlarının dikkatinin dağılmasına ya da paniğe kapılmalarına sebep olabilir?
- A) Davranışlarının sonuçlarını düşünerek bilinçli şekilde hareket etmesi  
B) Makineyi diğer saha çalışanlarının üzerine sürerek şakalar yapması  
C) Makineyi kullanırken güvenlik kurallarının bilincinde hareket etmesi  
D) Başkalarının canına ya da malına zarar vermeme sorumluluğunu üstlenerek makineyi kullanması
- 9) Aşağıdakilerden hangisi saygısız ve tedbirsiz iş makinesi kullanmaya örnektir?
- A) Emniyet tedbirlerini alarak çalışmak  
B) Saha şefinin açıkladığı uyarılara uygun davranışlar sergilemek  
C) Kişisel koruyucu donanımları kullanarak çalışmak  
D) İhtiyaç duyulmasına rağmen diğer saha çalışanlarına yardım etmemek
- 10) İş makinesi operatörleri sahada çalışan başka işçilere nasıl davranmalıdır?
- A) Saygılı davranışlar sergilemelidir  
B) Diğer operatörler ile koordineli şekilde çalışmalıdır  
C) İhtiyaç duyulması halinde diğer çalışanlara yardım etmelidir  
D) Hepsi





11) İş makinesi operatörünün çalışma ortamında yaptığı hangi davranış, diğer saha çalışanlarının dikkatinin dağılmasına ya da paniğe kapılmalarına sebep olabilir?

- A) Davranışlarının sonuçlarını düşünerek bilinçli şekilde hareket etmesi
- B) Makineyi diğer saha çalışanlarının üzerine sürerek şakalar yapması
- C) Makineyi kullanırken güvenlik kurallarının bilincinde hareket etmesi
- D) Başkalarının canına ya da malına zarar vermeme sorumluluğunu üstlenerek makineyi kullanması

12) Aşağıdakilerden hangisi saygısız ve tedbirsiz iş makinesi kullanmaya örnektir?

- A) Sahada bulunan diğer kişilere saygılı davranması
- B) Uyarı ve ikaz levhalarına uyulması
- C) Güvenlik ekipmanlarının kullanılması
- D) Sahada bulunan diğer çalışanların üzerine su sıçratmak

13) Çalışma alanında araç kullanımı hakkında aşağıdakilerden hangisi doğrudur?

- A) Çevre kontrol edilir, hızlıca araç kullanılır
- B) El - kol hareketleri ile araç kullanılır
- C) Emniyet kemeri takılır, çalışma anında el, kol ve ayaklar operatör kabini dışına çıkartılmaz
- D) Hepsi

14) Düşük motivasyonun ifadesi aşağıdaki seçeneklerin hangisinde doğru olarak verilmiştir?

- A) Olumlu bakış açısı
- B) Sorumluluk alma ve paylaşma isteği
- C) Katılım ve iş birliği
- D) Birbirini engelleme

15) "Sıkılı yumruk, dudakların sıkılması, burundan gürültülü soluma" aşağıdaki duygulardan hangisini ifade eder?

- A) Endişe ve kaygı
- B) Üzüntü
- C) Tedirginlik
- D) Öfke



16) Yazılı kuralları bulunmayan fakat iş esnasında kendiliğinden gelişerek diğer çalışanlara hoşgörülü, saygılı ve yardımsever şekilde davranmak aşağıdakilerin hangisinin konusu içinde yer alır?

- A) İş ve meslek adabı      B) İş bitimi kontrolü  
C) Emir verme                D) Emir alma

17) Toplum içinde var olan, uyulması gereken incelik ve saygı kurallarına ne ad verilir?

- A) Ahlak kuralları              B) Gelenek ve görenekler  
C) Görgü kuralları            D) Hukuk kuralları

18) Kendi işini kurmak amacı ile harekete geçen girişimci aşağıdakilerden hangisini yapar?

- A) Organizasyon yapar      B) Araştırma yapar  
C) Koordinasyon yapar      D) Hepsini

19) Bir hizmet sözleşmesine dayanarak herhangi bir işte ücret karşılığında çalışan kişiye ne ad verilir?

- A) Usta      B) İşçi      C) Çırak      D) Kalfa

20) Hizmet sözleşmenin karşı tarafa herhangi bir bildirimde bulunmadan sona erdirilmesine ne ad verilir?

- A) Fesih      B) Protesto      C) Sözleşme      D) Grev

21) Çevrenin doğal yapısının bozulması ve değişmesi sebebi ile canlıların olumsuz yönde etkilenmesine ne ad verilir?

- A) Ekolojik denge              B) Atık  
C) Ekosistem                  D) Çevre kirliliği

22) İş makinesi operatörünün mesleki gelişimi deyince aşağıdakilerden hangisini anlamalıyız?

- A) Yeni çıkan yasalarla ilgili bilgi sahibi olma çabası  
B) Makinelerde gelişen donanımların özelliklerini öğrenmesi  
C) Güzergâh ve karayolları ile ilgili bilgileri bilmesi  
D) Hepsini



- 23) Operatörün yaptığı işe yenilik ve beceri katma çabasına ne ad verilir?
- A) Üniversite öğrenciliği B) Mesleki gelişim  
C) Açık öğretim D) Kültür farklılığı
- 24) Aşağıdaki ifadelerden hangisi mesleki gelişim konuları içerisinde yer almaz?
- A) Meslek ile ilgili kitap ve dergiler okumak  
B) Meslek ile ilgili kurslara katılmak  
C) Meslek ile ilgili pratik yapmak  
D) Meslek ile ilgili sorunları kitap haline getirmek
- 25) Meslek seçiminde aşağıdaki özelliklerden hangisine dikkat edilmez?
- A) Çalışma koşulları B) Mesai saatleri  
C) Kazanç D) Firma sayısının çokluğu
- 26) Aşağıdakilerden hangisi mesleki yozlaşmanın örnekleri arasında yer almaz?
- A) Aşırı hirs B) Plansızlık  
C) Eksik bilgi D) Düzenli çalışma
- 27) Aşağıdakilerden hangisi etik dışı davranışlar arasında yer alır?
- A) Doğruluk  
B) Tarafsızlık  
C) Mesleki sorumluluk  
D) İş ilişkilerinde politik davranışlar
- 28) Aşağıdakilerden hangisi mesleki sorumluluklar arasında yer alır?
- A) İşverene karşı sorumluluk  
B) Müşteriye karşı sorumluluk  
C) Mesleğine karşı sorumluluk  
D) Hepsi
- 29) Aşağıdaki seçeneklerden hangisi düşük motivasyon ifadelerinden birisidir?
- A) Karşılaşılan sorunlara akılcı yaklaşımlar sergilemek  
B) Yapılan iş ile alakalı sorumluluk alma ve paylaşma isteği  
C) Yapılan işe katılım ve diğer çalışanlar ile iş birliği  
D) Diğer çalışanların çözüme yardımcı olmalarını engelleme çabası



- 30) Aşağıdakilerden hangisi meslek seçimini belirleyen unsurlardan biri değildir?
- A) Toplumsal değerler      B) Çevre ve aile yapısı  
C) Hukuk kuralları      D) Eğitim düzeyi
- 31) Aşağıdakilerden hangisi kendisini iyi tanıyan meslek sahibinin özellikleri arasındadır?
- A) Yaşayacakları karşısında neler hissedeceğini bilir  
B) Yaşayabileceği sorunlara karşı çözüm üretebileceğini bilir  
C) Diğer iş arkadaşlarına saygılı davranışlar sergiler  
D) Hepsisi
- 32) Aşağıdakilerden hangisinde Meslek tanımı doğru şekilde ifade edilmiştir?
- A) Bir işte çalışıyor olmak  
B) Belli bir eğitim düzeyine sahip olmak  
C) İnsanlara yararlı mal üretmek, hizmet vermek ve para kazanmak için kuralları belirtilmiş bir işe sahip olmak  
D) İş arıyor olmak
- 33) Aşağıdakilerden hangisi özgüvenin oluşmasında etken olan unsurlardan değildir?
- A) Bilgi      B) Tecrübe      C) İnanç      D) Tevazu
- 34) Aşağıdakilerin hangisinde Ahlaki değerler doğru şekilde ifade edilmiştir?
- A) Bireylerin törelere uygun davranışlarını  
B) Toplumun iyilik ve kötülük hakkındaki değer yargıları  
C) İyi insan olma özellikleri  
D) Hepsisi
- 35) Gürültünün, insanlar üzerindeki olumsuz etkilerden birisi aşağıdakilerden hangisidir?
- A) İşitme sistemine zarar vermesi  
B) Stres duygusu yaşatması  
C) Uyku düzenini bozması  
D) Hepsisi



- 36) Bir hizmet sözleşmesine dayanarak işçi çalıştıran gerçek ve tüzel kişilere ne denir?  
A) Vakıf B) İş alan C) İşveren D) Dernek
- 37) İş makinesi operatörünün mesleki gelişimi deyince aşağıdakilerden hangisini yanlışlar?  
A) Yeni çıkan yasalarla ilgili bilgi sahibi olma çabası  
B) Makinelerde gelişen donanımların özelliklerini öğrenmesi  
C) Güzergâh ve karayolları ile ilgili bilgileri bilmesi  
D) Makinenin markasına önem vermesi
- 38) Aşağıdakilerden hangisi kendisini iyi tanıyan meslek sahibinin özellikleri arasında yer almaz?  
A) Yaşayacakları karşısında neler hissedeceğini bilir  
B) Yaşayabileceği sorunlara karşı çözüm üretebileceğini bilir  
C) Diğer iş arkadaşlarına saygılı davranışlar sergiler  
D) Sorun ile karşılaştığında panik yapar
- 39) Aşağıdakilerden hangisi çalışandan kaynaklanan olumsuz unsurlardan değildir?  
A) Üzüntüler B) Ailevi sorunlar  
C) Meslek sorunları D) Düşük maaş
- 40) Aşağıdakilerden hangisi yapılabacak işin verimini olumsuz yönde etkileyen unsurlar arasında değildir?  
A) İşin yükü  
B) Amirlerin baskısı  
C) Grup içerisindeki çalışma baskısı  
D) Makinenin modelli olması
- 41) Aşağıdakilerden hangisi operatörün verimliliğini arttıran faydalı unsurlardır?  
A) Çalışma ortamındaki dayanışma  
B) İşveren baskısı  
C) Ailevi sorunlar  
D) Ekonomik geçim sıkıntıları



42) Operatörün verimliliğini arttıran en önemli etken aşağıdakilerden hangisidir?

- A) İş ile alakalı bilgi ve beceri sahibi olması
- B) Çalışacağı makinenin markası
- C) İşverenin tanıdık bir kişi olması
- D) Yapılan işin tehlikeli olması

43) Aşağıdaki ifadelerden hangisi Ahlaki değer unsurlarından değildir?

- A) Bireylerin törelere uygun davranışları
- B) İyi insan olma özellikleri
- C) İyi ve kötü arasındaki farkı ayırt edebilme özelliği
- D) Karşılaşılan problemlere ilgisiz kalma

44) Aşağıdakilerden hangisi meslek gelişimde ekonomik amaçlar arasında yer almaz?

- A) İşverenin, çalışanları işi erken bitirmeye zorlaması
- B) Çalışanların etkinliğini arttırmak
- C) Gereksiz aktiviteleri önlemek
- D) İnsan, makine ve çevre uyumunu sağlamak

45) Gürültünün, insanlar üzerindeki olumsuz etkilerden birisi aşağıdakilerden hangisidir?

- A) İşitme sistemine zarar verir
- B) Motivasyonu artırır
- C) Sağlıklı düşünmeyi sağlar
- D) Bilinçli davranışları artırır

### - CEVAPLAR -

1. D	7. D	13. C	19. B	25. D	31. D	37. D	43. D
2. D	8. B	14. D	20. A	26. D	32. C	38. D	44. A
3. D	9. D	15. D	21. D	27. D	33. D	39. D	45. A
4. D	10. D	16. A	22. D	28. D	34. D	40. D	
5. A	11. B	17. C	23. B	29. D	35. D	41. A	
6. D	12. D	18. D	24. D	30. C	36. C	42. A	



## İSG GÜVENLİK SORULARI

- 1) İş makinesi kullanma belgesi alacak kişilerde aşağıdaki şartlardan hangisi aranmalıdır?
  - A) Uzun boylu olması
  - B) Sağlık kriterlerine uygun olması
  - C) Lise mezunu olması
  - D) Kilolu olması
- 2) Aşağıdaki işlemlerden hangisi iş makineleri ile yapılamaz?
  - A) Kanal açma
  - B) İnsan taşıma
  - C) Toprak yükleme
  - D) Yük ve personel yükseltme
- 3) Aynı iş yerinde çalışan iş makinelerinin korna sesleri nasıl olmalıdır?
  - A) Havalı korna olmalı
  - B) Hidrolik korna olmalı
  - C) Korna sesleri hepsinde aynı olmalı
  - D) Korna sesleri hepsinde farklı olmalı
- 4) Bozulan ve yürütülemeyecek durumda olan iş makinesi nasıl bırakılmalıdır?
  - A) Olduğu gibi bırakılmalı
  - B) Emniyet ve güvenlik tedbirleri alınarak reflektörle işaretlenmeli
  - C) Kırmızı bez asılmalı
  - D) Çalıştırılmaya zorlanmalı
- 5) Aşağıdakilerden hangisi işçilerin iş kazalarına uğramalarını önlemek amacıyla alınması gereken önlemlerden biridir?
  - A) İş kanunu
  - B) İş güvenliği
  - C) Emniyet şeridi
  - D) İş kazası
- 6) İş kazalarında aşağıdakilerden hangisi insan kaynaklı sebeplerden değildir?
  - A) Sıcaklık ve nem
  - B) Dalgınlık, dikkatsizlik
  - C) Eğitim ve bilgi eksikliği
  - D) İlgisizlik ve düzensizlik



- 7) Aşağıdakilerden hangisi iş güvenliği açısından koruyucu bir ekipman değildir?
- A) Takım çantası                      B) Baret  
C) Koruyucu eldiven                D) İş gözlüğü
- 8) Aşağıdakilerden hangisi saygısız ve tedbirsiz iş makinesi kullanmaya örnektir?
- A) Emniyet tedbirlerini alarak çalışmak  
B) Yetkili amirinin uyarılarına uygun davranmak  
C) Sahada bulunan ikaz ve işaret levhalarına uygun davranmak  
D) Sahada çalışan diğer kişilere saygılı davranmamak
- 9) İş makinesi ile geri manevra yaparken, operatör aşağıdakilerden hangisini yapmak zorunda değildir?
- A) Alanda çalışan diğer kişileri gözlemleyerek hareket etmek  
B) Uyarı sistemlerini kullanarak hareket etmek  
C) İş makinesinin dikiz aynasını kontrol ederek hareket etmek  
D) Sahada bulunan diğer araçları gözlemeden hareket etmek
- 10) İş makinelerinde aşağıdakilerden hangisinin bulunması zorunludur?
- A) Radyo                                      B) Görüntü cihazı  
C) Yangın söndürme cihazı            D) Klima
- 11) İş makinelerindeki reflektör hangi hallerde kullanılır?
- A) Yolda normal giderken  
B) Sahada çalışırken  
C) Operatör istediği zaman  
D) Karayolunda arızalanan iş makinelerinin işaretlenmesinde
- 12) İş makinesi operatörünün dikkat etmesi gereken husus aşağıdakilerden hangisidir?
- A) İş güvenliği ve emniyet tedbirlerine uymak  
B) Makineyi çok yavaş kullanmak  
C) Yükü sürekli havada tutmak  
D) Makineyi çok hızlı kullanmak





- 13) İş makinesi ile çalışırken kaza meydana gelmemesi için aşağıdaki tedbirlerden hangisi alınmalıdır?
- A) Çalışma alanının etrafı emniyet şeridi ile çevrilmeli  
B) Çalışma alanının etrafına uyarı işaretleri konulmalı  
C) Görevi olmayan kişiler çalışma sahasına alınmamalı  
D) Hepsi
- 14) Aşağıdakilerden hangisi eğitilmiş ve belgeli iş makinesi operatörünün özelliklerindedir?
- A) İş makinesini kurallara uygun kullanır  
B) Sahada çalışan diğer kişilere saygılı davranır  
C) Eğitim gören operatör, araç kullanma tekniklerini iyi bilir  
D) Hepsi
- 15) İş makinesi operatörü çalışma sahasında nasıl giyinmelidir?
- A) Ne şekilde giyindiğinin önemi yoktur  
B) Rahat edebileceği kıyafetler giymelidir  
C) Normal bir tulum giymelidir  
D) Kişisel koruyucu donanımları giymelidir
- 16) İş makinelerinde yangın söndürme cihazı nerede bulunmalıdır?
- A) Motor kaputunun altında  
B) Takım çantası içinde  
C) Operatörün ulaşabileceği yerde  
D) İş makinelerinde yangın söndürme cihazı bulunmaz
- 17) İş makinelerinde aşağıdaki iş güvenliği tedbirlerinden hangisi doğrudur?
- A) Tepe lambası ve aydınlatma sistemi olmalı  
B) Geri harekette sesli uyarı ikaz sistemi olmalı  
C) Acil durumlar için yangın söndürme cihazı olmalı  
D) Hepsi
- 18) İş makineleri ile çalışma yaparken aşağıdakilerden hangisine dikkat edilmelidir?
- A) Çevredeki insanlara, makine ve araçlara  
B) Çalışma alanının asfaltlı olup olmadığına  
C) Makinenin yakıtının tam dolu olup olmadığına  
D) Karbüratör yakıt basıncına



19) Kapalı mekânlarda egzoz gazlarından doğacak zararların önüne geçmek için hangi tip makineler tercih edilmelidir?

- A) Dizel makineler                      B) Benzinli makineler  
C) Elektrikli makineler                D) LPG'li makineler

20) İş makinesi ile yük taşırken aşağıdakilerden hangisine dikkat edilmelidir?

- A) Taşınan yük ve zemine dikkat etmek  
B) Hızlı gitmeye gayret etmek  
C) Devri yüksek tutmaya özen göstermek  
D) Yükün çok hafif olmasına dikkat etmek

21) İş makineleri ile yük taşırken aşağıdakilerden hangisi doğru bir uygulamadır?

- A) İş makinesinin arkasına dengeyi sağlamak amacıyla kilolu insanlar bindirilir  
B) Kapasitesi üzerinde makine ile hiçbir iş yapılmaz  
C) Şantiye şefinden izin alınarak kapasitenin üstünde yük taşınabilir  
D) Kapasite üzerinde yük taşımak için lastik basınçları düşürülür

22) DUR sesini duyan operatör nasıl davranmalıdır?

- A) İşi hızlandırarak çalışmaya devam etmelidir  
B) İş bitiminde durmalıdır  
C) Çalışmayı hemen durdurmalıdır  
D) İşi yavaşlatarak çalışmaya devam etmelidir

23) Aşağıdakilerden hangisi iş makinesi operatörünün kullanması gereken kişisel koruyucu donanımlardandır?

- A) El siperi                                      B) Yüz siperi  
C) Çizmeli tulum                              D) Çelik burunlu ayakkabı

24) Aşağıdakilerden hangisi iş makinesi operatörünün kullanması gereken kişisel koruyucu donanımlardan değildir?

- A) Yün eldiven                                B) İş gözlüğü  
C) İş eldiveni                                    D) Baret



- 25) Aşağıdakilerden hangisi iş makinesi operatörünün kullanması gereken kişisel koruyucu donanımlardandır?
- A) İş gözlüğü                      B) İş eldiveni  
C) Baref                              D) Hepsisi
- 26) Aşağıdakilerden hangisi iş makinesi operatörünün kullanması gereken kişisel koruyucu donanımlardandır?
- A) Yün eldiven                      B) Yüz siperi  
C) Çizmeli tulum                      D) Hiçbiri
- 27) Aşağıdakilerden hangisi iş makinesi operatörünün kullanması gereken kişisel koruyucu donanımlardandır?
- A) El siperi  
B) Yün ceket  
C) Bere  
D) Koruma gözlüğü
- 28) İşaretçinin görevi aşağıdakilerden hangisidir?
- A) İş makinesini kullanmak  
B) İş makinesi operatörünü doğru ve planlı şekilde yönlendirmek  
C) İş makinesinin bakımlarını yapmak  
D) İş makinesini başka bir yere nakletmek
- 29) İş makinesi ile tünel içinde çalışılırken aşağıdakilerden hangisine dikkat edilmelidir?
- A) Boğulmalara sebep olabilecek oksijen miktarına  
B) Radyoaktif maddelerin olup olmadığına  
C) Yeterli miktarda hava olup olmadığına  
D) Hepsisi
- 30) İş makinesi operatörü iş bitiminde aşağıdakilerden hangisini yapmamalıdır?
- A) Makineyi uygun alana çekmeli  
B) Basamakları kullanarak inmeli  
C) Kontaklı kapatmalı  
D) Makineyi olduğu yerde bırakmalı



31) İş makinesi ile trafiğe açık alanlarda çalışılırken aşağıdakilerden hangisinin yapılması yanlıştır?

- A) Çevredeki insan ve araçlara azami dikkat gösterilir
- B) Trafiğe açık alanlarda ani manevralar yapılır
- C) Gerekli işaret ve işaretçilere uyulur
- D) Diğer iş makineleri ile koordineli şekilde çalışılır

32) Çalışma sahasında iş makinesi kullanımı ile ilgili aşağıdaki ifadelerden hangisi doğrudur?

- A) Çevre kontrolü dikkate alınmadan hızlıca araç kullanılır
- B) El - kol hareketleri ile araç kullanılır
- C) Emniyet kemeri takılır, yetkililerden alınan talimatlara uygun hareket edilir
- D) Operatör iş kıyafetlerini giymeden makineyi kullanır

33) Aşağıdaki resimde verilen uyarı levhası ne anlama gelmektedir?

- A) Eldiven kullan
- B) Gözlük kullan
- C) İş ayakkabısı kullan
- D) Emniyet kemeri kullan



34) Aşağıdaki resimde verilen uyarı levhası ne anlama gelmektedir?

- A) İş eldiveni kullan
- B) Koruyucu gözlük kullan
- C) İş ayakkabısı kullan
- D) Emniyet kemeri kullan



35) Aşağıdaki resimde verilen uyarı levhası ne anlama gelmektedir?

- A) Eldiven kullan
- B) Gözlük kullan
- C) İş ayakkabısı kullan
- D) Baret kullan



36) Aşağıdakilerden hangisi gözü koruyan kişisel koruyucu donanımdır?

- A) Kulaklık
- B) Koruyucu gözlük
- C) Baret
- D) Eldiven

37) Aşağıdaki verilen levha ne anlama gelmektedir?

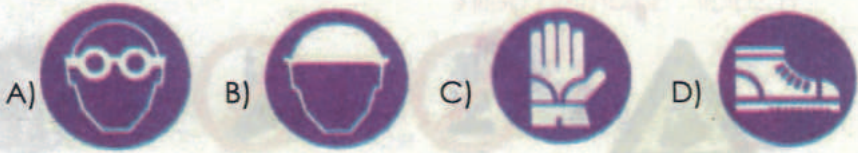
- A) Aşırı yük kaldırma
- B) Elektrik panolarına dikkat et
- C) İş sahasına girme
- D) Kişisel koruyucu donanım kullan



38) Operatör iş makinesine binerken kafasını kabine vurup yaralanmıştır. Bu tür kazaların meydana gelmemesi için hangi kişisel koruyucu donanımı kullanması gerekir?

- A) Baret
- B) Eldiven
- C) Koruyucu gözlük
- D) İş önlüğü

39) Aşağıdaki işaretlerden hangisi Koruyucu Gözlük Takınız anlamı taşımaktadır?



40) Aşağıdaki levha ne anlama gelmektedir?


- A) Aşırı yük kaldırma
- B) Elektrik panolarına dikkat et
- C) İş sahasına girme
- D) Kişisel koruyucu donanım kullan




41) Aşağıdaki işaretlerden hangisi Kulak Koruyucusu Takınız anlamı taşımaktadır?



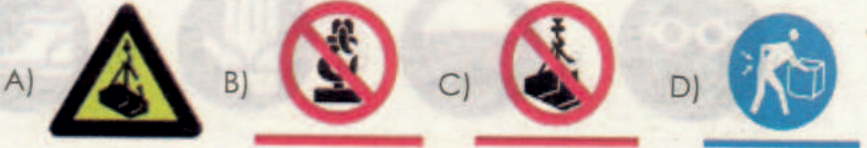
42) Aşağıdaki işaretlerden hangisi Koruyucu Maske Takınız anlamı taşımaktadır?



43) Aşağıdaki işaretlerden hangisi Koruyucu Ayakkabı Giyiniz anlamı taşımaktadır?



44) Aşağıdaki işaretlerden hangisi "Kaldırılan Yük Altında Durmak Yasaktır" anlamına gelir?



45) İşçilerin iş kazalarına uğramalarını önlemek amacıyla güvenli çalışma ortamını oluşturmak için alınması gereken önlemler dizisine ne denir?

- A) İş güvenliği
- B) İş korunması
- C) İşçi çalışması
- D) İş savunması



- 46) Aşağıdakilerden hangisi iş güvenliği amaçları arasında yer almaz?
- A) Çalışanları korumak
  - B) Üretim güvenliğini sağlamak
  - C) İşletme güvenliğini sağlamak
  - D) Ciroyu artırmak
- 47) Aşağıdaki 112'nin aranması sırasında dikkat edilmesi gereken kurallardan hangisi yanlıştır?
- A) Sakin olunmalı ya da sakın olan bir kişinin araması sağlanmalıdır
  - B) Hasta veya yaralının sosyal güvencesi ile ilgili bilgi verilmelidir
  - C) Eğer herhangi bir ilk yardım uygulaması yapıldıysa nasıl bir yardım yapıldığı belirtilmelidir
  - D) "112" hattında bilgi alan kişi, gerekli olan tüm bilgileri aldığı söyleninceye kadar telefon kapatılmamalıdır
- 48) Aşağıdakilerden hangisi meslek hastalıklarından korunma yöntemlerinden biri değildir?
- A) Çalışanların eğitimi
  - B) Uygun çalışma ortamı
  - C) Koruyucu donanım kullanımı
  - D) İşten ayrılma
- 49) Aşağıdakilerden hangisi iş kazası ve meslek hastalıklarını önlemek için yapılan faaliyetlerden biri değildir?
- A) Mühendislik faaliyetleri
  - B) Eğitim faaliyetleri
  - C) Denetim faaliyetleri
  - D) Ekonomik tedbirler
- 50) Aşağıdakilerden hangisi operatörünün kişisel davranışlarından kaynaklı risklerdendir?
- A) Güvenlik kurallarına uymak
  - B) Kişisel koruyucu kullanmak
  - C) Teknik kurallara uymak
  - D) Makineyi gerektiğinden hızlı kullanmak



51) Kişisel koruyucu donanımlarının kullanımı ile ilgili aşağıdaki ifadelerden hangisi yanlıştır?

- A) Çalışanlara ücretsiz verilmelidir
- B) Yapılacak işe uygun nitelikte kişisel koruyucu donanımlar kullanılmalıdır
- C) Hijyenik şartlarda muhafaza edilmelidir
- D) Kişisel koruyucu donanımlar ortak kullanılmalıdır

52) Aşağıdakilerden hangisi iş makinesi operatörlerinin dikkat etmesi gereken hususlardandır?

- A) İş güvenliği ve emniyet tedbirlerine uymak
- B) Makine kapasitesine dikkat etmeden çalışmak
- C) Gerekli kontrol ve bakımları yapmadan makine kullanmak
- D) Makineyi çok hızlı kullanmak

- CEVAPLAR -

1. B	10. C	19. C	28. B	37. D	46. D
2. B	11. D	20. A	29. D	38. A	47. B
3. D	12. A	21. B	30. D	39. A	48. D
4. B	13. D	22. C	31. B	40. D	49. D
5. B	14. D	23. D	32. C	41. A	50. D
6. A	15. D	24. A	33. C	42. C	51. D
7. A	16. C	25. D	34. A	43. D	52. A
8. D	17. D	26. D	35. D	44. C	
9. D	18. A	27. D	36. B	45. A	





## İSG KKD VE LEVHALAR SORULARI

1. Aşağıdakilerden hangisi kişisel koruyucu donanımlarda (KKD) bulunması gereken özellikler arasında yer almaz?  
A) Yeterli korumayı sağlamalıdır  
B) Şık görünmelidir  
C) Konforlu olmalıdır  
D) Dayanıklı olmalıdır
2. Yüksekten düşebilecek durumda bulunan malzemelerin olduğu ortamda hangi tür koruyucu ekipman kullanılmalıdır?  
A) Baret B) Maske C) Eldiven D) Kulaklık
3. Tozlu ortamlarda çalışan operatörler, hangi tür koruyucu ekipman kullanılmalıdır?  
A) Baret B) Maske  
C) Eldiven D) Çelikli Burunlu ayakkabı
4. Kişisel koruyucu donanımlar için aşağıdakilerden hangisi zorunlu bir özellik değildir?  
A) Diğer çalışanlar ile ortak kullanılır  
B) İş yerinde var olan koşullara uygun olmalıdır  
C) Kullanıma amacı ile alakalı riski önlemeye uygun olmalıdır  
D) Kullanan işçinin sağlık durumuna ve ergonomik gereksinimlerine uygun olmalıdır
5. Aşağıdakilerden hangisi kişisel koruyucu donanım değildir?  
A) Koruyucu eldivenler  
B) Atkı  
C) Düşmeyi önleyici ekipman  
D) Çelik burunlu ayakkabı
6. Güvenlik işaretlerinin kullanımı ile alakalı aşağıdaki ifadelerden hangisi yanlıştır?  
A) İşaret levhaları belirli aralıklarla yerleştirilir  
B) Karıştırılma ihtimali olan iki ışıklı işaret levhası aynı yerde kullanılmaz  
C) Birden fazla sesli sinyal, aynı anda kullanılmaz  
D) Çok fazla ortam gürültüsü olan yerlerde sesli sinyal sistemleri kullanılır



7. Güvenlik ve Sağlık İşaretleri Yönetmeliğine göre yasak işareti, tehlike alarmı ve yangınla mücadele ekipmanını ifade eden renk aşağıdakilerden hangisidir?

- A) Sarı B) Yeşil C) Kırmızı D) Mavi

8. Anlamı, acil çıkış, ilkyardım işareti olan renk aşağıdakilerden hangisidir?

- A) Sarı B) Yeşil C) Kırmızı D) Mavi

9. Aşağıdakilerden hangisi mavi renk kullanılan sağlık ve güvenlik işaretlerindedir?

- A) Zorunluluk B) Geçiş serbestliği  
C) İlkyardım D) Uyarı

10. Güvenlik ve Sağlık İşaretleri Yönetmeliğine göre, uyulması zorunlu bir davranışı belirleyen işarete ne denir?

- A) Yasak işareti B) Uyarı işareti  
C) Emredici işaret D) Bilgilendirme işareti

11. Güvenlik ve Sağlık İşaretleri Yönetmeliğine göre, anlamı ve amacı uyarı işareti olan renk aşağıdakilerden hangisidir?

- A) Sarı B) Yeşil C) Kırmızı D) Mavi


12. Kişisel koruyucu donanımların kullanımı ile ilgili olarak aşağıdakilerden hangisi doğrudur?

- A) Yemekhane ve dinlenme salonlarında kullanılır  
B) Sadece işyeri denetimi esnasında kullanılır  
C) Operatör istediği zaman kullanır  
D) Kişisel koruyucu ekipmanlar çalıştığınız ortamda kendimizin güvenliğini sağlamak amacıyla kullanılır


13. Güvenlik ve Sağlık İşaretleri Yönetmeliğine göre, Sigara İçmek ve Açık Alev Kullanmak Yasaktır işareti aşağıdakilerden hangisidir?




14. Güvenlik ve Sağlık İşaretleri Yönetmeliğine göre, Suyla Söndürmek Yasaktır işareti aşağıdakilerden hangisidir?



15. Güvenlik ve Sağlık İşaretleri Yönetmeliğine göre, İçilmez işareti aşağıdakilerden hangisidir?



16. Güvenlik ve Sağlık İşaretleri Yönetmeliğine göre, Yetkisiz Kimse Giremez işareti aşağıdakilerden hangisidir?



17. Güvenlik ve Sağlık İşaretleri Yönetmeliğine göre, Yaya Giremez işareti aşağıdakilerden hangisidir?




18. Güvenlik ve Sağlık İşaretleri Yönetmeliğine göre, İş Makinesi Giremez işareti aşağıdakilerden hangisidir?




19. Güvenlik ve Sağlık İşaretleri Yönetmeliğine göre, Dokunma işareti aşağıdakilerden hangisidir?




20. Güvenlik ve Sağlık İşaretleri Yönetmeliğine göre, Dikkat Asılı Yük aşağıdakilerden hangisidir?



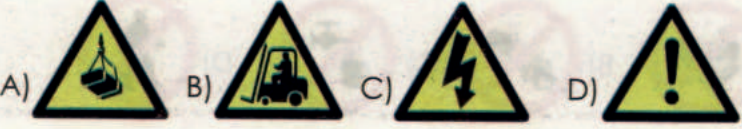
21. Güvenlik ve Sağlık İşaretleri Yönetmeliğine göre, Dikkat İş Makinesi Çıkabilir aşağıdakilerden hangisidir?



22. Güvenlik ve Sağlık İşaretleri Yönetmeliğine göre, Dikkat Elektrik Tehlikesi aşağıdakilerden hangisidir?



23. Güvenlik ve Sağlık İşaretleri Yönetmeliğine göre Dikkat Tehlike Levhası aşağıdakilerden hangisidir?



24. Güvenlik ve Sağlık İşaretleri Yönetmeliğine göre, Dikkat Engel aşağıdakilerden hangisidir?



25. Güvenlik ve Sağlık İşaretleri Yönetmeliğine göre, Dikkat Düşme Tehlikesi aşağıdakilerden hangisidir?



26. Güvenlik ve Sağlık İşaretleri Yönetmeliğine göre, Acil Çıkış işareti aşağıdakilerden hangisidir?



27. Güvenlik ve Sağlık İşaretleri Yönetmeliğine göre, Güvenlik Duşu işareti aşağıdakilerden hangisidir?



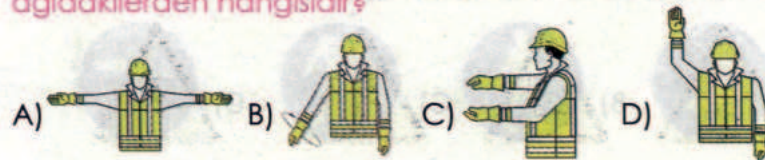
28. Güvenlik ve Sağlık İşaretleri Yönetmeliğine göre, Acil Yardım ve İlk Yardım Telefonu işareti aşağıdakilerden hangisidir?




29. Güvenlik ve Sağlık İşaretleri Yönetmeliğine göre, Yangın Söndürme Cihazı işareti aşağıdakilerden hangisidir?




30. Güvenlik ve Sağlık İşaretleri Yönetmeliğine göre, Dur işareti aşağıdakilerden hangisidir?



31. Güvenlik ve Sağlık İşaretleri Yönetmeliğine göre, aşağıdakilerden hangisi Gözlük Kullan anlamına gelmektedir?




32. Güvenlik ve Sağlık İşaretleri Yönetmeliğine göre, aşağıdakilerden hangisi Baret Tak anlamına gelmektedir?



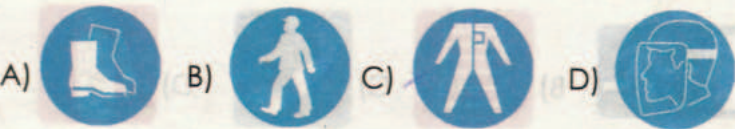
33. Güvenlik ve Sağlık İşaretleri Yönetmeliğine göre, aşağıdakilerden hangisi Eldiven Giy anlamına gelmektedir?




34. Güvenlik ve Sağlık İşaretleri Yönetmeliğine göre, aşağıdakilerden hangisi Maske Kullan anlamına gelmektedir?



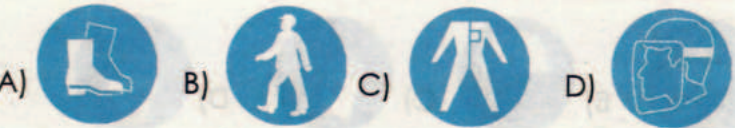
35. Güvenlik ve Sağlık İşaretleri Yönetmeliğine göre, aşağıdakilerden hangisi İş Ayakkabısı Giy anlamına gelmektedir?



36. Güvenlik ve Sağlık İşaretleri Yönetmeliğine göre, aşağıdakilerden hangisi Yaya Yolu Kullan anlamına gelmektedir?



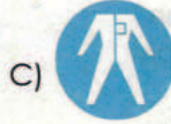
37. Güvenlik ve Sağlık İşaretleri Yönetmeliğine göre, aşağıdakilerden hangisi Koruyucu Elbise Giy anlamına gelmektedir?



38. Güvenlik ve Sağlık İşaretleri Yönetmeliğine göre, aşağıdakilerden hangisi Yüz Siperi Kullan anlamına gelmektedir?



39. Güvenlik ve Sağlık İşaretleri Yönetmeliğine göre, aşağıdakilerden hangisi Kulaklık Koruyucu Kullan anlamına gelmektedir?



40. Güvenlik ve Sağlık İşaretleri Yönetmeliğine göre, aşağıdakilerden hangisi Emniyet Kemerini Kullan anlamına gelmektedir?



41. Şekilde görülen resim ne anlama gelmektedir?

- A) Gözlük kullan
- B) Barett tak
- C) Eldiven giy
- D) Maske kullan



42. Şekilde görülen resim ne anlama gelmektedir?

- A) Gözlük kullan
- B) Barett tak
- C) Eldiven giy
- D) Maske kullan



43. Şekilde görülen resim ne anlama gelmektedir?

- A) Gözlük kullan
- B) Barett tak
- C) Eldiven giy
- D) Maske kullan



44. Şekilde görülen resim ne anlama gelmektedir.

- A) Gözlük kullan
- B) Barett tak
- C) Eldiven giy
- D) Maske kullan



45. Şekilde görülen resim ne anlama gelmektedir.

- A) İş ayakkabısı giy
- B) Yaya yolunu kullan
- C) Koruyucu elbise giy
- D) Yüz siperi kullan



46. Şekilde görülen resim ne anlama gelmektedir.

- A) İş ayakkabısı giy
- B) Yaya yolunu kullan
- C) Koruyucu elbise giy
- D) Yüz siperi kullan



47. Şekilde görülen resim ne anlama gelmektedir.

- A) İş ayakkabısı giy
- B) Yaya yolunu kullan
- C) Koruyucu elbise giy
- D) Yüz siperi kullan



48. Şekilde görülen resim ne anlama gelmektedir.

- A) İş ayakkabısı giy
- B) Yaya yolunu kullan
- C) Koruyucu elbise giy
- D) Yüz siperi kullan



49. Şekilde görülen resim ne anlama gelmektedir.

- A) Emniyet kemeri kullan
- B) Kulak koruyucu tak
- C) Koruyucu elbise giy
- D) Yüz siperi kullan





50. Şekilde görülen resim ne anlama gelmektedir.

- A) Emniyet kemeri kullan
- B) Kulak koruyucu tak
- C) Koruyucu elbise giy
- D) Yüz siperi kullan



51. Şekilde görülen resim ne anlama gelmektedir.

- A) Sigara içmek yasaktır
- B) Yaya giremez
- C) Suyla söndürmek yasaktır
- D) İçilmez



52. Şekilde görülen resim ne anlama gelmektedir.

- A) Sigara içmek
- B) Yaya giremez
- C) Suyla söndürmek yasaktır
- D) İçilmez



53. Şekilde görülen resim ne anlama gelmektedir.

- A) Sigara içmek
- B) Yaya giremez
- C) Suyla söndürmek yasaktır
- D) İçilmez



54. Şekilde görülen resim ne anlama gelmektedir.

- A) Sigara içmek
- B) Yaya giremez
- C) Suyla söndürmek yasaktır
- D) İçilmez



55. Şekilde görülen resim ne anlama gelmektedir.

- A) Yetkisiz kimse giremez
- B) Sigara içmek
- C) Yaya giremez
- D) Suyla söndürmek yasaktır



56. Şekilde görülen resim ne anlama gelmektedir.

- A) Yetkisiz kimse giremez
- B) İş makinesi giremez
- C) Yaya giremez
- D) Suyla söndürmek yasaktır



57. Şekilde görülen resim ne anlama gelmektedir.

- A) Yetkisiz kimse giremez
- B) İş makinası giremez
- C) Dokunma
- D) Suyla söndürmek yasaktır



58. Şekilde görülen resim ne anlama gelmektedir.

- A) Parlayıcı madde veya yüksek ısı
- B) Lazer ışını
- C) Oksitleyici madde
- D) Asılı yük



59. Şekilde görülen resim ne anlama gelmektedir.

- A) Elektrik tehlikesi
- B) Lazer ışını
- C) Oksitleyici madde
- D) Asılı yük



60. Şekilde görülen resim ne anlama gelmektedir.

- A) Lazer ışını
- B) Tehlike
- C) Oksitleyici madde
- D) Asılı yük



61. Şekilde görülen resim ne anlama gelmektedir.

- A) Lazer ışını
- B) Tehlike
- C) İş makinesi giremez
- D) Asılı yük



62. Şekilde görülen resim ne anlama gelmektedir.

- A) Lazer ışını
- B) Tehlike
- C) İş makinesi
- D) Engel



63. Şekilde görülen resim ne anlama gelmektedir.

- A) Düşme tehlikesi
- B) Lazer ışını
- C) Tehlike
- D) İş makinesi



64. Şekilde görülen resim ne anlama gelmektedir.

- A) Acil Çıkış
- B) İlk yardım
- C) Acil yardım ve ilk yardım telefonu
- D) Güvenlik duşu



65. Şekilde görülen resim ne anlama gelmektedir.

- A) Acil Çıkış
- B) İlk yardım
- C) Acil yardım ve ilk yardım telefonu
- D) Güvenlik duşu



66. Şekilde görülen resim ne anlama gelmektedir.

- A) Acil Çıkış
- B) İlk yardım
- C) Acil yardım ve ilk yardım telefonu
- D) Güvenlik duşu



67. Şekilde görülen resim ne anlama gelmektedir.

- A) Acil Çıkış
- B) İlk yardım
- C) Acil yardım ve ilk yardım telefonu
- D) Güvenlik duşu



68. Şekilde görülen resim ne anlama gelmektedir.

- A) Göz duşu
- B) Acil Çıkış
- C) İlk yardım
- D) Acil yardım ve ilk yardım telefonu



69. Şekilde görülen resim ne anlama gelmektedir.

- A) Acil Yangın Telefonu
- B) Yangın merdiveni
- C) Yangın Söndürme Cihazı
- D) Yangın Hortumu



70. Şekilde görülen resim ne anlama gelmektedir.

- A) Acil Yangın Telefonu
- B) Yangın merdiveni
- C) Yangın Söndürme Cihazı
- D) Yangın Hortumu



71. Şekilde görülen resim ne anlama gelmektedir.

- A) Geri
- B) Düşey mesafe
- C) İndir
- D) Dur



- CEVAPLAR -

1. B	10. C	19. A	28. C	37. C	46. B	55. A	64. A
2. A	11. A	20. A	29. D	38. D	47. C	56. B	65. B
3. B	12. D	21. B	30. D	39. B	48. D	57. C	66. C
4. A	13. A	22. C	31. A	40. A	49. A	58. D	67. D
5. B	14. B	23. D	32. B	41. A	50. B	59. A	68. A
6. D	15. C	24. D	33. C	42. B	51. A	60. B	69. B
7. C	16. D	25. D	34. D	43. C	52. B	61. C	70. C
8. B	17. D	26. A	35. A	44. D	53. C	62. D	71. D
9. A	18. B	27. B	36. B	45. A	54. D	63. A	



FORKLİFT			
1	İleri geri (yön kontrol) levyesinin konumlarını gösteriniz.	6	Forklift uyarı ve ikaz göstergelerini gösteriniz.
2	El frenini gösteriniz.	7	Çatal ayar mandallarını gösteriniz.
3	Gaz ve fren pedallarını gösteriniz.	8	Kaldırma silindiri gösteriniz.
4	Çatalları kaldırma indirme levyesini (joystick) gösteriniz.	9	Asansör sistemini öne arkaya tilt (bom) yaptıran levreyi (joystick) gösteriniz.
5	Gall (Asansör) zincirini gösteriniz.	10	Tilt (bom) silindirlerini gösteriniz.

Yukarıdaki 10 sorudan 6'sına doğru cevap veren kursiyer başarılı olup uygulama sınavının ikinci aşamasına geçer.

BEKO-LODER			
1	Makine park frenini gösteriniz.	6	Destek ayaklarını gösteriniz.
2	Yakıt tankını gösteriniz.	7	İleri – geri yön kontrol levyesini gösteriniz.
3	Hidrolik tankı gösteriniz.	8	Kazıcı kepçe ve ön kepçeyi gösteriniz.
4	Sigorta kutusunun yerini gösteriniz.	9	Kazıcı kova kilitleme pimini gösteriniz.
5	Kazıcı kepçe bom ve arm'ı gösteriniz.	10	Gresörükleri gösteriniz.

Yukarıdaki 10 sorudan 6'sına doğru cevap veren kursiyer başarılı olup uygulama sınavının ikinci aşamasına geçer.

EKSKAVATÖR			
1	Makine park frenini gösteriniz.	6	Kule dönüş kumanda kolunu gösteriniz.
2	Yakıt tankını gösteriniz.	7	Makine bom ve arm kısımlarını gösteriniz.
3	Hidrolik tankını gösteriniz.	8	Yürüyüş levyelerini gösteriniz.
4	Sigorta kutusunun yerini gösteriniz.	9	Gresörükleri gösteriniz.
5	Makine emniyet levyesini (Lock Lever) gösteriniz.	10	Makinenin ön ve arka yönünün nasıl belirlendiğini gösteriniz.

Yukarıdaki 10 sorudan 6'sına doğru cevap veren kursiyer başarılı olup uygulama sınavının ikinci aşamasına geçer.

DOZER			
1	Makine park frenini gösterip, çalışmadan önce hangi konumda olması gerektiğini gösteriniz.	6	Ripper'i (yanıcı) ya da takıldığı yeri gösteriniz.
2	Yakıt tankını gösteriniz.	7	Dönüş kollarını (levye) gösteriniz.
3	Hidrolik tankı gösteriniz.	8	Bıçak açısı ayar kolunu gösteriniz.
4	Sigorta kutusunun yerini gösteriniz.	9	Gresörükleri gösteriniz.
5	Bıçak kumanda levyelerini gösteriniz (Kaldırma-indirme, öne-arkaya yatırma).	10	Bıçak kaldırma ve öne-arkaya yatırma silindirlerini gösteriniz.



**GREYDER**

1	Yakıt tankını gösteriniz.	6	Hidrolik tankını gösteriniz.
2	Sigorta kutusunun yerini gösteriniz.	7	Daire döndürme kumanda kolunu gösteriniz.
3	El gazı kolunu gösteriniz.	8	Bıçak kaydırma kumanda kolunu gösteriniz.
4	Ön bıçak kumanda kolunu gösteriniz.	9	Şev kesme kumanda kolunu gösteriniz.
5	Bıçak kesme açısı kumanda kolunu gösteriniz.	10	Tahrik tekerlerini gösteriniz.

Yukarıdaki 10 sorudan 6'sına doğru cevap veren kursiyer başarılı olup uygulama sınavının ikinci aşamasına geçer.

**SİLİNDİR**

1	Yakıt deposunu gösteriniz.	6	Geri yürüyüş kolunu gösteriniz.
2	Hidrolik tankını gösteriniz.	7	Tamburu gösteriniz.
3	Su tankını gösteriniz.	8	Vibrasyon düğmesini gösteriniz.
4	Gaz pedalını veya kolunu gösteriniz.	9	Akünün yerini gösteriniz.
5	İleri yürüyüş kolunu gösteriniz.	10	Sıyırıcıyı gösteriniz.

Yukarıdaki 10 sorudan 6'sına doğru cevap veren kursiyer başarılı olup uygulama sınavının ikinci aşamasına geçer.

**MOBİL VİNÇ**

1	Hidrolik yağ deposunu gösteriniz.	6	Sabitleme (destek) ayaklarını gösteriniz.
2	Sabitleme (destek) ayak levyelerini gösteriniz.	7	Ana bomu gösteriniz.
3	Bom kaldırma – indirme levyesini gösteriniz.	8	Kaldırma silindirini gösteriniz.
4	Bom uzatma – çekme levyesini gösteriniz.	9	Kule dönüş – kremayer dişlisini gösteriniz.
5	Kule dönüş levyesini gösteriniz.	10	Acil stop düğmesini gösteriniz.

Yukarıdaki 10 sorudan 6'sına doğru cevap veren kursiyer başarılı olup uygulama sınavının ikinci aşamasına geçer.



**TAŞIMA RAYLI SİSTEM KÖPRÜLÜ VİNÇ (TAVAN VİNÇ)**

1	Vinç arabasını (kedi) gösteriniz.	6	Kanca makara bloğunu gösteriniz.
2	Acil stop düğmesini gösteriniz.	7	Kanca emniyet mandalını gösteriniz.
3	Frenleme takozlarını gösteriniz.	8	Kanca motorunu gösteriniz.
4	Vinç köprüsünü gösteriniz.	9	Vinç arabası yürütme motorunu gösteriniz.
5	Halat tamburunu gösteriniz.	10	Köprü yürüyüş (şaryo) motorunu gösteriniz.

Yukarıdaki 10 sorudan 6'sına doğru cevap veren kursiyer başarılı olup uygulama sınavının ikinci aşamasına geçer.

**PERSONEL VE YÜK YÜKSELTİCİ**

1	Hidrolik yağ deposunu gösteriniz.	6	Sabitleme (destek) ayaklarını gösteriniz.
2	Sabitleme (destek) ayak levyelerini gösteriniz.	7	Ana bomu gösteriniz.
3	Bom kaldırma – indirme levyesini gösteriniz.	8	Kaldırma silindiri gösteriniz.
4	Bom uzatma – çekme levyesini gösteriniz.	9	Kule dönüş – kremayer dişlisini gösteriniz.
5	Kule dönüş levyesini gösteriniz.	10	Acil stop düğmesini gösteriniz.

Yukarıdaki 10 sorudan 6'sına doğru cevap veren kursiyer başarılı olup uygulama sınavının ikinci aşamasına geçer.

**TERMINAL ÇEKİCİ**

1	Tepe lambası çalıştırma butonunu gösteriniz.	6	Römork bağlantı emniyet kitini gösteriniz.
2	Yakıt deposunu gösteriniz.	7	Gaz pedalı ve gaz kolunu gösteriniz.
3	Araç aküsünü gösteriniz.	8	Araç gösterge panelini gösteriniz.
4	El frenini gösteriniz.	9	Römork elektrik bağlantı soketini gösteriniz.
5	Römork çeki demirini gösteriniz.	10	Araç fren pedalını gösteriniz.

Yukarıdaki 10 sorudan 6'sına doğru cevap veren kursiyer başarılı olup uygulama sınavının ikinci aşamasına geçer.

**KENDİNDEN TAHRİKLİ MOTORLU TAŞIYICI (SPMT) AĞIR NAKLİYE (LOW-BED)**











1	Aksı gösteriniz.	6	Modül bağlantılarını gösteriniz.
2	Sigorta kutusunu gösteriniz.	7	Yengeç yürüyüşü kontrollerini gösteriniz (varsa).
3	Yangın söndürücüyü gösteriniz.	8	Arka ikaz ışıklarını gösteriniz.
4	Kurmanda üzerinde ileri ve geri yön kontrollerini gösteriniz.	9	Acil stop butonunu gösteriniz.
5	Ana valteri gösteriniz.	10	Sağ ve sol dönüş kontrollerini gösteriniz.



**SERDÜMEN (İŞARETÇİ)**

1	BAŞLAT Hazır ol başlama komutu gösteriniz.	6	SAĞ (işaretçinin sağı) hareketini gösteriniz.
2	DUR Kesinti / ara hareketi durdur gösteriniz.	7	SOL (işaretçinin solu) hareketini gösteriniz.
3	TAMAM işlemin sonu gösteriniz.	8	KES ACİL DUR hareketini gösteriniz.
4	KALDIR hareketini gösteriniz.	9	İLERİ hareketini gösteriniz.
5	İNDİR hareketini gösteriniz.	10	GERİ hareketini gösteriniz.

				
SAĞ	KALDIR	SOL	DUR	İLERİ
				
İNDİR	BAŞLAT	KES ACİL DUR	GERİ	TAMAM

Yukarıdaki 10 sorudan 6'sına doğru cevap veren kursiyer başarılı olup uygulama sınavının ikinci aşamasına geçer.

**ÇEKME ARAÇLARI (Havaalanı, fabrika, depo, antrepo vb. alanlarda bagajların ve kargoların taşınması makinesi)**

1	Dorse/Römorku gösteriniz.	6	Bataryayı(aküyü) gösteriniz.
2	Çeki bağlantısını gösteriniz.	7	Korna butonunu gösteriniz.
3	Çeki bağlantısı emniyet kilidini gösteriniz (varsa).	8	Tepe lambasını gösteriniz.
4	Direksiyonu gösteriniz.	9	Acil stop butonunu gösteriniz.
5	Vites seçici butonu/kolu gösteriniz (ileri-geri hareket seçimi için / varsa).	10	Gaz pedalını gösteriniz (ileri ve/veya geri hareket pedalı).

Yukarıdaki 10 sorudan 6'sına doğru cevap veren kursiyer başarılı olup uygulama sınavının ikinci aşamasına geçer.

